


GEÇMİŐTEN GÜNÜMÜZE EKONOMİK FAALİYETLER



GEÇMİŞTEN GÜNÜMÜZE GEÇİM TARZLARI

Ekonomik kaynakların iřletiliř Őekillerine, mal ve hizmet etkinliklerine **ekonomik faaliyet** denir



Paleolitik Çağ (Kaba Taş Çağı)

Bu çağda insanlar avcılık ve besin toplayıcılığı ile geçiniyorlardı.

Barınakları kaya sığınaklarıydı.

Küçük gruplar halinde ve göçebe olarak yaşarlardı.



Paleolitik Çağda İnsan;

1 İlk aletleri yapar

2 Ateşi bulur

3 Dikiş dikebilmek için kemik iğneler

4 Mağara duvarlarına resimler icat eder

Mezolitik Çağ(Yontma Taş Çağı)

Göç etmeden yaşamak için doğal şartları uygun yerler buldular

Bu yerler, doğal yiyeceklerin ve av hayvanlarının bulunduğu verimli sulak alanlardı.



Mezolitik Çağda

Beslenme çeşitlendi

Tarıma *geçiş aşamasına* gelindi

Köpek evcilleştirildi



Neolitik Çağ (Yeni Taş Çağı)

- 1 Tarıma geçildi
- 2 Hayvanlar evcilleştirildi
- 3 Kerpiç evler yapılmış, köylerin oluşturulmuştur
- 4 Seramik yapan zanaatkarlar ortaya çıktı
- 5 Takas başladı. Böylece ticaret doğdu.

Kalkolitik Çağ (Maden Çağı)

1

Tarım ve hayvancılık daha da gelişti

2

Köylerin etrafı surlarla çevrildi

3

Köyler kentlere dönüştü.

4

Devletler ortaya çıktı

5

Maden işleme, tarım, el aletleri

6

Silah yapımında gelişmeler oldu

7

Silahların gelişmesiyle güçlü imparatorluklar kuruldu

8

Meslekler ortaya çıktı

9

Devletlerarası iyi örgütlü ticari ilişkilerin doğdu



EKONOMİK FAALİYETLERİN ÇEŞİTLENMESİ

İnsanlar yaşamlarını kolaylaştırmak için sırasıyla

HAYVAN
GÜCÜ



BUHAR



ELEKTRİK

kullandılar



M.S. 11 ve 12. yüzyılda,

MS 11 ve 12
yy. da tarım
ve hayvancılık
önemini
korumakla
birlikte
ticaret de çok
önemliydi







Hititler
döneminde var
olan yollar, Roma
döneminde
geliştirildi ve yeni
yollar yapıldı

**Ticaret yollarının güvenliđi için Selçuklular
döneminde kervansaraylar, Osmanlılar
döneminde Hanlar yaptırıldı.**



İpek Yolu, Asya ve Avrupa arasındaki toplumsal değişim ve etkileşim açısından önemli bir yere sahip olmuştur.



16. yüzyılda,

16. yy.da,
toplumlar arası
ticaretin
gelişmesiyle
ülkeler arasında
ekonomik ilişkiler
de gelişmeye
başlamıştır.



Ekonomik yařam, Batı Avrupa'da buhar makinesinin icadı ile deęiřmeye bařladı.




Sanayi Devrimi'nden önce insanlar için sahip oldukları toprağın ve yaşadıkları yerlerin büyüklüğü önemli bir güç kaynağıydı.




17. yüzyılda,

17.yüzyılda başlayan hızlı bilimsel gelişmeler
tarım ve ticaret gelirlerini arttırmış, böylece
Sanayi Devriminin temelleri atılmıştır.



Sanayi devrimi ile



Üretim arttı

İnsan emeğine ihtiyaç azaldı

Ulaşım araçları gelişti

Nüfus patlaması yaşandı

Hammadde ve ürünlerin taşınması kolaylaştı

Köyden kente göç arttı

Makineleşmeyle tarımsal gelir arttı

Hammadde ve Pazar ihtiyacı sömürgeciliği yaygınlaştırdı

20 yy. sonları ve 21. yy başlarında;

Bilgisayarın icadı, bilgi paylaşımında önemli bir adım olmuştur.

Bilgisayarın ve İnternet bilgi paylaşımı çok kısa sürede gerçekleştirmektedir.



Günümüzde kaybolmakta olan türlerin korunmasında, çoğaltılması zor olan türlerin üretiminde, çeşitli **doku kültürü** yöntemleri uygulanmaktadır.










Tarihsel Süreçte Ekonomik Faaliyetler

DÖNEM	Etkin Ekonomik Faaliyet	Ekonominin Temel Gücü	Yaşam
Paleolitik	Avcılık Toplayıcılık	Ham madde	Göçebe
Neolitik	Tarım ve Hayvancılık	Ham madde	Köyler
Sanayi Devri	Sanayi Ticaret	Enerji ve Ulaşım	Kentler
Bilgi Çağı	Hizmet, bilgi, iletişim	Teknoloji	Kentler








Aşağıda verilen özelliklerin hangi çağlara ait olduklarını bulalım

Özellikleri	Paleolitik Çağ	Mezolitik Çağ	Neolitik Çağ	Kalkolitik Çağ	İlk ve Orta Çağ	Sanayi Dön. ve Sonrası
Kas gücünün yerini buhar aldı						
Tekerlek bulundu						
Tam olarak tarım üretimine geçildi						
Maden işlenmeye başlandı						
Hayvanlar evcilleştirildi						








Aşağıda verilen özelliklerin hangi çağlara ait olduklarını bulalım

Özellikleri	Paleolitik Çağ	Mezolitik Çağ	Neolitik Çağ	Kalkolitik Çağ	İlk ve Orta Çağ	Sanayi Dön. ve Sonrası
Yerleşik Hayata Geçildi						
Seramik Üretildi						
Yazı İcat Edildi						
Mağara yaşamı başladı						
Avcılık Yapılmaya Başlandı						



Aşağıda verilen özelliklerin hangi çağlara ait olduklarını bulalım

Özellikleri	Paleolitik Çağ	Mezolitik Çağ	Neolitik Çağ	Kalkolitik Çağ	İlk ve Orta Çağ	Sanayi Dön. ve Sonrası
Esnaf Sınıfı Doğdu						
İlk Köyler Ortaya Çıktı						
Kent Devletleri Ortaya Çıktı						
Tarıma Geçiş Dönemi Başladı						
Köpek Evcilleştirildi.						

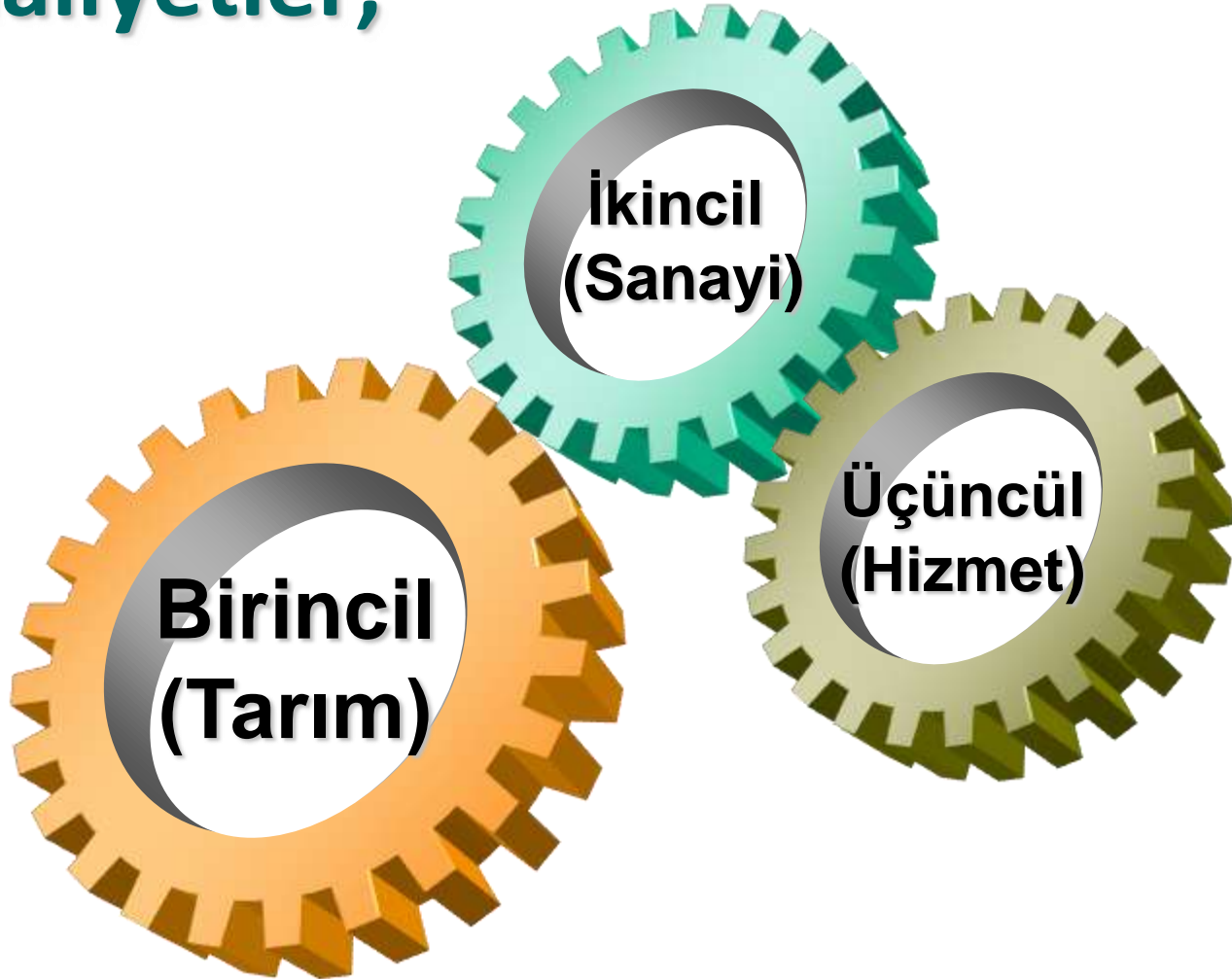


EKONOMİK FAALİYETLERİN SINIFLANDIRILMASI

İnsanlar, hayatlarını devam ettirmek ve ihtiyaçlarını karşılamak için çeşitli ekonomik faaliyetlerde bulunurlar.



Bu faaliyetler;



Olmak üzere üç ana grupta incelenebilir







**Şimdi sizinle küçük bir etkinlik
yapalım**



Herkes kendine bir meslek belirlesin



Sorduđumuz arkadaşımız bize o
meslekle ilgili ipucu versin
Biz de bu mesleđin hangi faaliyet
grubunda olduđunu bulalım?




**MESLEĐİ
SEÇİP
BURADAN
BAŞLAYALIM**





**Topraktan veya Denizden mi
elde ediliyor**

EVET




HAYIR



Bir Őey imal ediliyor mu?

EVET




HAYIR



İnsanlara hizmet ediliyor mu?

EVET



HAYIR

BİRİNCİL FAALİYET

YENİ BİR
MESLEK
SEÇMEK İÇİN
TIKLAYINIZ



Konuya devam

İKİNCİL FAALİYET

YENİ BİR
MESLEK
SEÇMEK İÇİN
TIKLAYINIZ



Konuya devam

ÜÇÜNCÜL FAALİYET

**YENİ BİR
MESLEK
SEÇMEK İÇİN
TIKLAYINIZ**



Konuya devam

**TEKRAR
DENE**



Konuya devam

Şimdi de az önceki etkinliğimizden yararlanıp bazı meslekleri faaliyet grubuna ayıralım



BİRİNCİL FAALİYETLER	İKİNCİL FAALİYETLER	ÜÇÜNCÜL FAALİYETLER
BALIKÇI	FABRİKA İŞÇİSİ	POLİS
ÇİFTÇİ	DEMİRCİ	BANKACI
MADEN İŞÇİSİ	MOBİLYACI	OTOBÜS ŞOFÖRÜ
ÇOBAN	FIRINCI	İTFAİYECİ
ORMANCI	DEMİR ÇELİK İŞÇİSİ	DOKTOR
AVCI	İNŞAAT USTASI	ÖĞRETMEN



AKTİF NÜFUSUN EKONOMİK FAALİYET GRUPLARINA GÖRE DAĞILIMI

Çalışan nüfusun ekonomik faaliyetlere göre dağılım oranları bir ülkenin kalkınma düzeyini gösterir.



Örneđin;

ABD	Mali
İngiltere	Nijerya
Norveç	Somali
Japonya	Çin
İtalya	Bangladeş

gibi ÷lkelerde çalıřan nüfusun ekonomik faaliyetlere dađılımı birbirinden farklıdır

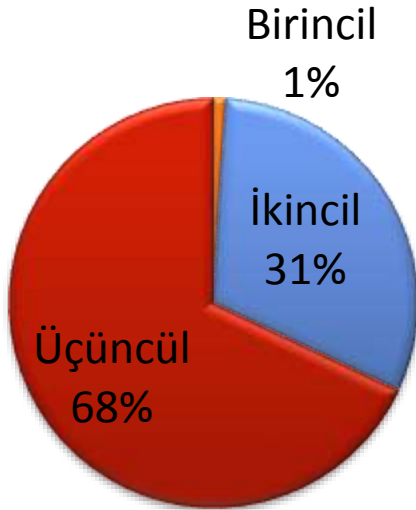
Gelişmiş ülkelerde ilk sırayı Hizmet, Gelişmemiş ülkelerde ise Tarım alır

GELİŞMİŞ ÜLKELER

Üçüncül(Hizmet)

İkincil(Sanayi)

Birincil(Tarım)

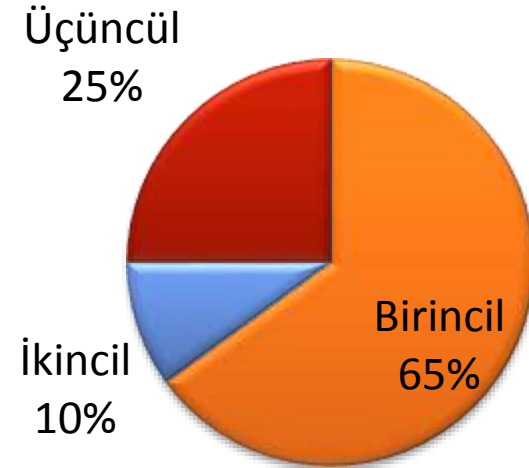


GELİŞMEMİŞ ÜLKELER

Birincil(Tarım)

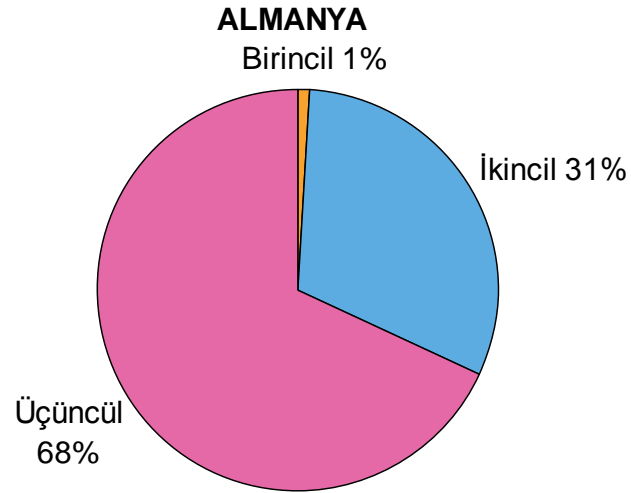
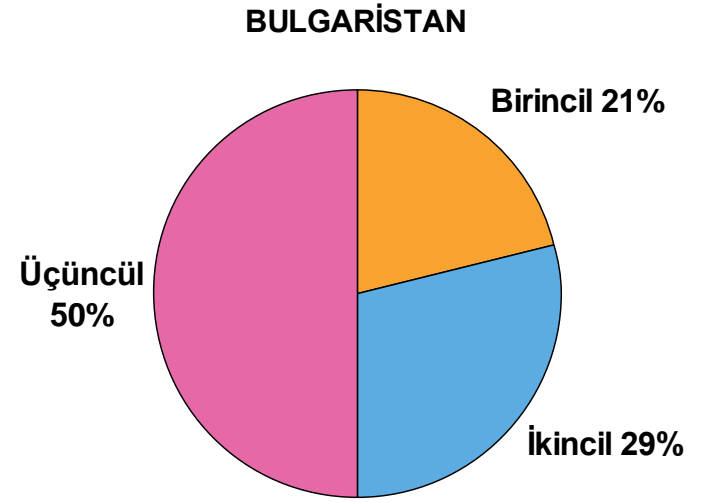
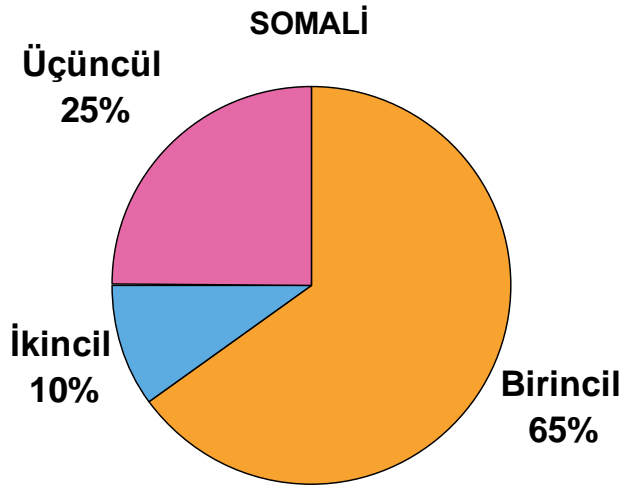
Üçüncül(Hizmet)

İkincil(Sanayi)



Farklı ülkelerdeki çalışan nüfusun sektörlere dağılımını inceleyelim





Şimdi de aşığıdaki resim ve metinlerden yararlanarak ekonomik faaliyetlerin az önce gösterdiğimiz hangi ülkeye ait olabileceğini bulalım



Birinci Ülkemizde,



Hayvancılık, Balıkçılık, Ormancılık, Madencilik önemli geçim kaynaklarıdır.

Ekonomimizde işçi gücüne ihtiyaç duyulur



Birinci Ülke

İhracatımızda ham maddeler,

İthalatımızda ise sanayi ürünleri önemli yer tutar

Sanayimizi geliştirip, geçim standardımızı yükseltebilmek için gelişmiş ülkelerden mal ve makineler satın alırız



Ancak

Birinci
Ülke

Eđitim, Saęlık, Ulařım ve İletişim hizmetlerinde bazı sorunlar yaşanmaktadır



İkinci Ülkemizde,



İnsanların büyük çoğunluğu çeşitli sanayi kollarında çalışır

İhracatımızda işlenmiş mamullerin payı giderek artmaktadır



İkinci Ülke

Ulaşım, İletişim, Sağlık ve Eğitim alanında önemli gelişmeler olmaktadır.

Bu gelişmelerde, sanayinin büyük bir katkısı bulunmaktadır



Üçüncü Ülkemizde,

Üçüncü
Ülke

İnsanlarımız genellikle,

Hastanelerde, Okullarda, Ofislerde, Turizm ve

Bilimsel araştırma gibi alanlarda çalışırlar



Üçüncü Ülke

Eğitim, Sağlık, Ulaşım, İletişim ve Kültürel etkinlikler insanlarımız için önemlidir



Üçüncü Ülke

Ülkemizde yaşam standardı oldukça yüksektir

Gelişmiş sanayimizin ihtiyacı olan ham maddeleri diğer
ülkelerden satın alırız



Gelişmiş Ülkeler

- Sanayi ürünleri ihraç eder
- Ürün değeri yüksektir
- Nüfus artış hızı düşüktür
- Nüfusun önemli bir kısmı hizmet sektöründe çalışır
- Gazete ve dergi okunma oranı çoktur
- Ömür uzun ve yaşam standardı yüksektir

Gelişmemiş Ülkeler

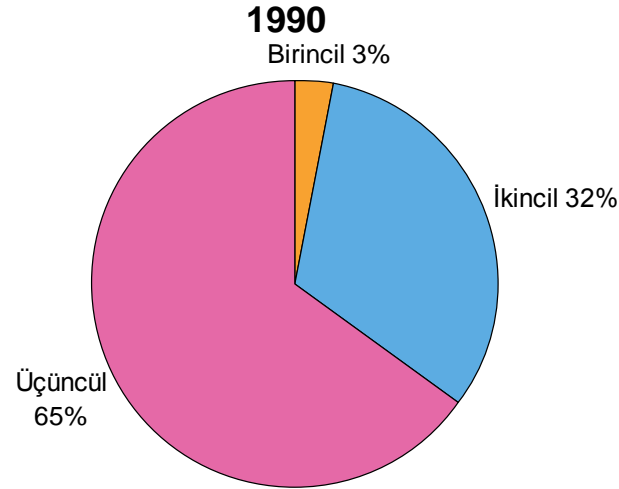
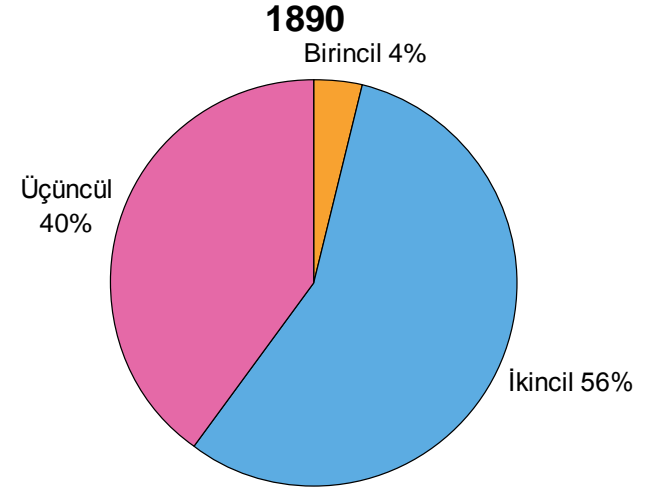
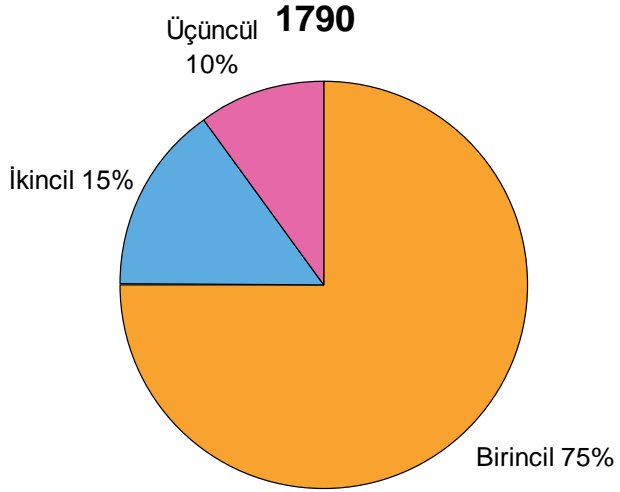
- Genelde tarım ürünleri ihraç eder
- Sanayileşme sınırlıdır,
- Teknolojik alt yapı bakımından dışa bağımlıdır
- Nüfus artış hızı fazladır
- Beslenme yetersizdir
- Hastalık ve çocuk ölüm oranı yüksektir
- Ömür kısa ve yaşam standardı düşüktür

Şimdi İngiltere'de
1790, 1890, 1990
yıllarında Çalışan
nüfusun ekonomik
faaliyet kollarına
dağılımı grafiklerini
inceleyelim.



İngiltere: Çalışan nüfusun ekonomik faaliyet kollarına dağılımı

(Kaynak: Dünya Bankası 2005)



İngiltere: Çalışan nüfusun ekonomik faaliyet kollarına dağılımı

(Kaynak: Dünya Bankası 2005)

Yıllar	Birincil Faaliyet	İkincil Faaliyet	Üçüncül Faaliyet
1790	%75	%15	%10
1890	%4	%56	%40
1990	%3	%32	%65

KAYNAKLAR

- Komisyon, Coğrafya 10 MEB Ders Kitabı, İstanbul 2009
- M. Köroğlu- S. Köroğlu, 10. Sınıf Coğrafya, Esen Yayınları, Ankara, 2008
- Komisyon, 10. Sınıf Coğrafya, Coşku Yayınları, İstanbul, 2009
- Komisyon, 10. Sınıf Coğrafya, Zambak Yayınları, İzmir, 2007
- Komisyon, LYS Coğrafya, Güvender Yayınları, İstanbul, 2009