

Kesikli Rasgele Değişkenler

Tanım (Ω, U, P) bir olasılık uzayı,

$$\begin{aligned} X : \Omega &\longrightarrow \mathbb{R} \\ \omega &\longrightarrow X(\omega) \end{aligned}$$

bir rasgele değişken ve X in aldığı değerlerin kümesi,

$$D_X = X(\Omega) = \{x : x \in \mathbb{R}, \exists \omega \in \Omega \text{ için } X(\omega) = x\}$$

olmak üzere, D_X kümesi sonlu veya sayılabilir sonsuz elemanlı olduğunda X e kesikli rasgele değişken (discrete random variable) denir.

Tanım X kesikli bir rasgele değişken olmak üzere,

$$f(x) = P(X = x) \quad , \quad x \in D_X$$

fonksiyonuna X in olasılık fonksiyonu denir.

Örnek Düzgün bir tavla zarı atılışında gelen nokta sayısı X rasgele değişkeni olmak üzere,

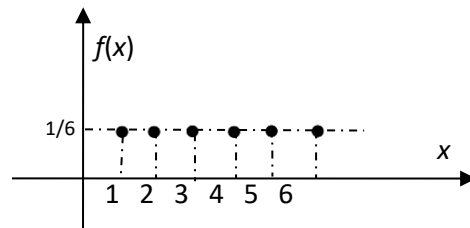
$$D_X = 1, 2, 3, 4, 5, 6$$

olup, X kesikli bir rasgele değişkendir. X in olasılık fonksiyonu,

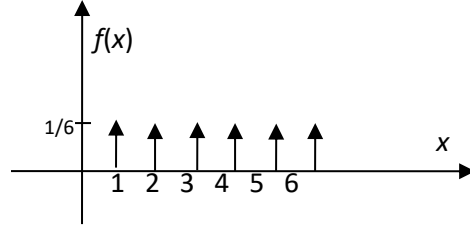
$$f(x) = P(X = x) = \frac{1}{6} \quad , \quad x \in D_X = 1, 2, 3, 4, 5, 6$$

dır. f fonksiyonunun grafiği,

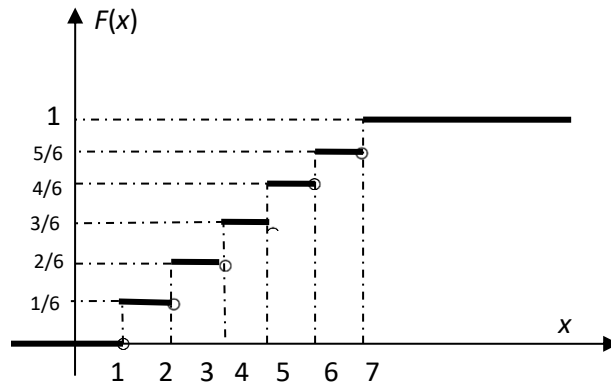
$$\text{grafik}(f) = (x, f(x)) : x = 1, 2, 3, 4, 5, 6$$



olmak üzere, bu grafiği



biçiminde göstereceğiz. Okların yükseklikleri o noktadaki olasılıkları göstermektedir. Dağılım fonksiyonunda ise basamakların yükseklikleri olasılıkları göstermektedir.



Kesikli bir X rasgele değişkenin dağılım fonksiyonu F ve olasılık fonksiyonu f olmak üzere,

$$F : \mathbb{R} \rightarrow [0,1]$$

$$x \rightarrow F(x) = P(X \leq x) = \sum_{x_i \in D_X, x_i \leq x} f(x_i)$$

$$f(x) = P(X = x) = F(x) - F(x^-) \quad , \quad x \in D_X$$

$$\begin{cases} 1) f(x) \geq 0 \quad , \quad x \in D_X \\ 2) \sum_{x \in D_X} f(x) = 1 \end{cases}$$

dır.

Örnek $\Omega = \{\omega_1, \omega_2, \omega_3, \dots, \omega_8\}$, $U = P(\Omega)$ ve $P(A) = \frac{n(A)}{8}$ olmak üzere X fonksiyonu aşağıdaki gibi tanımlansın.

$$X : \Omega \rightarrow \mathbb{R}$$

$$\omega \rightarrow X(\omega) = \begin{cases} 0 & , \omega = \omega_1 \\ 1 & , \omega = \omega_2, \omega_3, \omega_4 \\ 2 & , \omega = \omega_5, \omega_6, \omega_7 \\ 3 & , \omega = \omega_8 \end{cases}$$

X bir rasgele değişkendir.

$$\Omega = \{YYY, YYT, YTY, TYY, YTT, TYT, TTY, TTT\}$$

olduğunda, X rasgele değişkeni düzgün bir paranın üç kez atılışında gelen turaların sayısı olacaktır. Böyle tanımlanan X rasgele değişkeni için,

$$P(X = 0) = P(\{YYY\}) = 1/8$$

$$P(X \leq 1) = P(\{YYY, YYT, YTY, TYY\}) = 4/8$$

$$P(X = 1) = P(\{YYT, YTY, TYY\}) = 3/8$$

$$P(X = 3) = P(\{TTT\}) = 1/8$$

$$P(X = 1/2) = P(\emptyset) = 0$$

dır. X rasgele değişkeninin aldığı değerlerin kümesi,

$$D_x = X(\Omega) = \{0, 1, 2, 3\}$$

olmak üzere, X kesikli bir rasgele değişkendir. X in olasılık fonksiyonu,

$$f(x) = P(X = x) = \begin{cases} \frac{1}{8} & , x = 0 \\ \frac{3}{8} & , x = 1 \\ \frac{3}{8} & , x = 2 \\ \frac{1}{8} & , x = 3 \end{cases}$$

dır.

Alışagelmiş olarak, kesikli bir rasgele değişkenin aldığı değerler ile bu değerleri alması olasılıkları aşağıdaki gibi bir olasılık tablosunda gösterilmektedir.

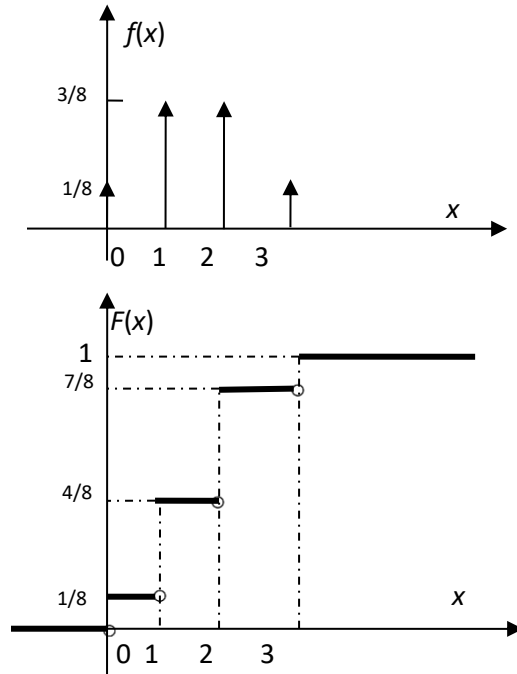
x	0	1	2	3
$f(x) = P(X = x)$	1/8	3/8	3/8	1/8

X rasgele değişkenin dağılım fonksiyonu,

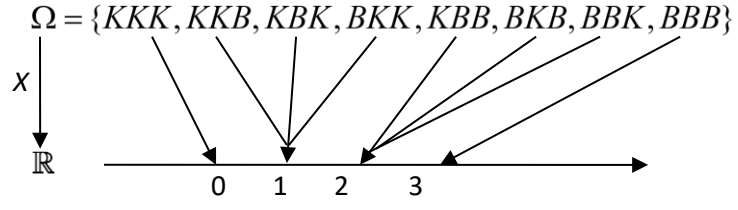
$$F : \mathbb{R} \rightarrow [0,1]$$

$$x \rightarrow F(x) = P(X \leq x) = \begin{cases} 0 & , \quad x < 0 \\ \frac{1}{8} & , \quad 0 \leq x < 1 \\ \frac{4}{8} & , \quad 1 \leq x < 2 \\ \frac{7}{8} & , \quad 2 \leq x < 3 \\ 1 & , \quad x \geq 3 \end{cases}$$

dır.



Bir torbada eşit sayıda beyaz ve kırmızı top bulunsun. Çekileni yine torbaya atarak ardı ardına üç top çekilmesi ve renklerinin gözlenmesi deneyinin Örnek uzayı,



olmak üzere, X rasgele değişkeni gelen beyaz top sayısıdır. Bu rasgele değişkenin olasılık ve dağılım fonksiyonları yukarıdakilerdir.