

NÜFUS POLİTİKALARI

Kazanım: B.11.1

Ülkelerin farklı dönemlerine ait nüfus politikalarını ve bunların sonuçlarını karşılaştırır.




Sıra	Ülke	Nüfus	Yıl	Dünya Nüfusuna Oranı
1	Çin	1.353.780.000	2012	%19,39
2	Hindistan	1.232.516.000	2012	%17.4
3	ABD	313.329.000	2012	%4.51
4	Endonezya	245.612.000	2011	%3.32
5	Brezilya	197.161.000	2012	%2.82
6	Pakistan	176.907.000	2012	%2.52
7	Nijerya	162.470.737	2011	%2.33
8	Rusya	143.056.383	2012	%2.05
9	Bangladeş	142.319.000	2011	%2.04
10	Japonya	127.960.000	2011	%1.83
11	Meksika	112.336.538	2010	%1.61
12	Filipinler	92.337.852	2010	%1.33
13	Vietnam	87.840.000	2011	%1.26
14	Etiyopya	84.320.987	2012	%1.21
15	Almanya	81.751.602	2011	%1.17
16	Mısır	81.972.000	2012	%1.17
17	İran	80.208.000	2011	%1.09
18	Türkiye	74.724.269	2011	%1.07



Etkinlik

Soruları, tabloya verilere göre yanıtlayınız.



1. Hangi ülkede nüfus artış hızı daha yüksektir?

2. Hindistan'da ve İngiltere'de son 47 yıl içinde nüfusun ne kadar arttığını belirleyiniz.

3. Her iki ülkede 47 yılda nüfus artışını oransal olarak belirleyiniz.

4. Bu ülkelerde nüfus artış hızı bu şekilde devam ederse gelecekte ne tür sorunların yaşanabilir?

5. Bu ülkelerde nüfus artışıyla ilgili ne tür uygulamalar gerekir?

İNGİLTERE		HİNDİSTAN	
Yıllar	Nüfus	Yıllar	Nüfus
1960	43.983.300	1960	443.000.000
1970	45.870.100	1970	553.000.000
1990	48.067.300	1990	838.114.000
2000	49.138.831	2000	1.004.591.054
2010	50.762.900	2010	1.134.303.000



Nüfus ve Nüfus Politikaları

Nüfus nedir?

Nüfus bir ülke için neden önemlidir?

Ülkelerin gelişmişlik düzeylerini nüfus nasıl etkiler?



Nüfus ve Nüfus Politikaları

Bir ülkenin gelişmişlik düzeyini nüfusun niteliğini ve dağılışını inceleyerek daha iyi anlayabiliriz.



Nüfus ve Nüfus Politikaları

**Nüfusun özellikleri
ülkelerin kalkınma
hızlarını da
etkilemektedir.**





Nüfus Politikası



Nüfusun artış hızını ve niteliğini değiştirmeye yönelik her türlü uygulamalardır



Nüfus Politikalarını Şöyle Sınıflandırabiliriz.

Nüfus artış hızını yükseltmeye yönelik.

Nüfus artış hızını düşürmeye yönelik.

Nüfusun niteliğini iyileştirmeye yönelik.





Etkinlik

Nüfus politikalarıyla ilgili tabloyu örneğe uygun olarak tamamlayınız.



Uygulama	Nüfus artış hızını artırır.	Nüfus artış hızını azaltır.
Evlenme yaşının küçültülmesi	✓	
Doğum kontrolüyle ilgili araç gereçlerin ücretsiz dağıtılması		✓
Doğum yapan kadınlara ücretli ve uzun süreli izin verilmesi	✓	
Çok çocuklu ailelerin bazı vergilerden muaf tutulması	✓	
Çocuk sahibi olmayan yaşlıların bakımını devletin üstlenmesi		
Çocukların masraflarının devlet tarafından karşılanması	✓	



Nüfus Politikaları Neden Uygulanır?

Nüfus Politikaları Neden Uygulanır?

Nüfus politikalarının uygulanmasında
başlıca etken;

ülkelerin
kalkınma
düzeyleri

nüfus
miktarları

nüfuslarının
niteliği

arasında denge kurmaktır.



Nüfus Politikaları Neden Uygulanır?

Ülkeler gelişmişlik düzeyleri ve nüfuslarına göre farklı nüfus politikaları uygulamaktadırlar.



Nüfus Artış Hızını Azaltmaya Yönelik Politikalar

Doğal nüfus artış hızı
yüksek olan ülkelerde,
nüfus artış hızını
azaltmaya yönelik
politikalar
benimsenmektedir.



Nüfus Artış Hızını Azaltmaya Yönelik Politikalar

Bu ülkelerde **nüfus artış hızının** kalkınma hızından **yüksek olması**, ülkelerin doğum oranını azaltmaya yönelik politikalar benimsemelerine neden olmaktadır



Nüfus Artış Hızını Azaltmaya Yönelik Politikalar

Bu Politikalar



Çocuk sayısının sınırlandırılması.

Kısırlaştırma ve doğum kontrol yöntemlerinin teşvik edilmesi.

Doğum kontrol yöntemleriyle ilgili olarak halkın bilinçlendirilmesi.

Evlenme yaşının sınırlandırılması

Nüfus Artış Hızını Artırmaya Yönelik Politikalar

Doğal nüfus artış hızının düşük olması da bazı gelişmiş ülkeler açısından önemli bir sorundur.



Nüfus Artış Hızını Artırmaya Yönelik Politikalar

Almanya,

Fransa,

İngiltere ve

Belçika gibi

ülkelerde nüfus artış hızını artırıcı politikalar benimsenmiştir.



Nüfus Artış Hızını Artırmaya Yönelik Politikalar

Örneğin nüfus artış hızı
eksi değerlere düşmüş
olan **Almanya**'da
çocuklu ailelere
ekonomik yardımlarda
bulunmaktadır.



Nüfus Artış Hızını Artırmaya Yönelik Politikalar

Doğal nüfus artış hızı çok fazla düşen **Romanya**'da bu durum tehlikeli görüldüğü için 1967 yılında **gebeliği önleyen ilaç ve araç satışı yasaklanmıştır.**



İnsan Hakları Beyannamesi'nde Üreme Hakkı(1968)

Gelişmiş ülkelerde etkilidir.
“Ebeveynlerin dünyaya getirecekleri çocuk sayısı ve aralığı hakkında özgür ve sorumlu karar verme hakkı ve bu çerçevede yeterli bilgi ve eğitim alma hakları vardır.”



Doğum Kontrolünü **Dinî Açıdan** Uygun Bulmayan Yaklaşımlar,

**Bu nedenle birçok ülkede doğum kontrol yöntemleri yasaklanmıştır.
(Latin Amerika ülkeleri)**



Nüfus Politikalarından Bazıları Göçlerle İlgilidir.

Bazı ülkeler **artan yabancı nüfusa karşı önlem** olarak ülkeye girişleri düzenlemektedirler.

Bazı ülkeler ise nüfusu artırmak için ülkeye gerçekleşecek olan **göçleri kolaylaştırmaya** çalışmaktadırlar.



Nüfusun Niteliğini İyileştirmeye Yönelik Politikalar

İnsanların eğitim düzeyini yükseltmek,

Ortalama yaşam süresini uzatmaya çalışmak ve

Sağlığıyla ilgili önlemler almak

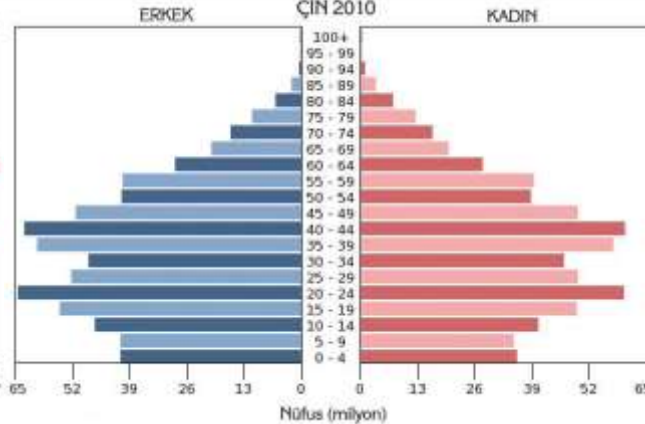
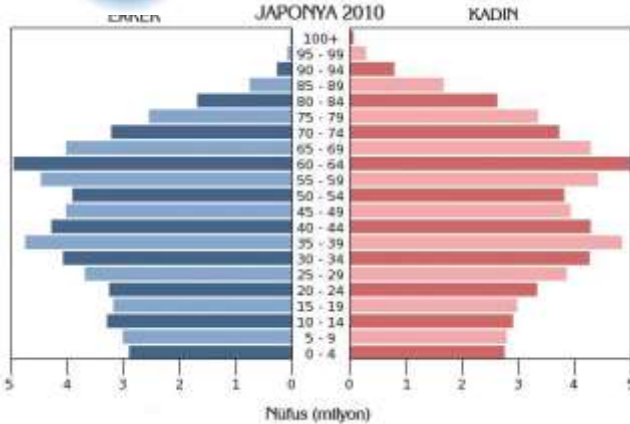
Nüfusun niteliğini iyileştirmeye yönelik politikalar.



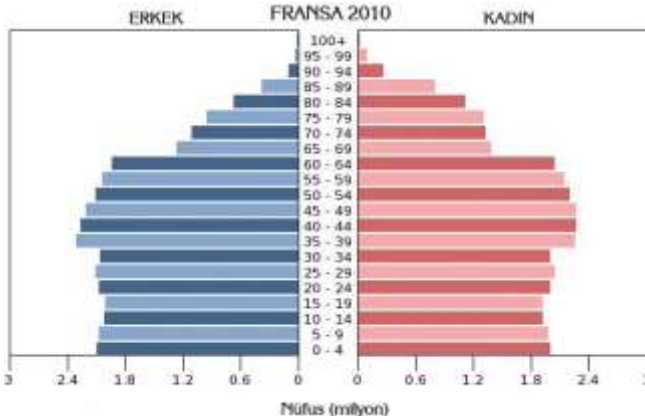
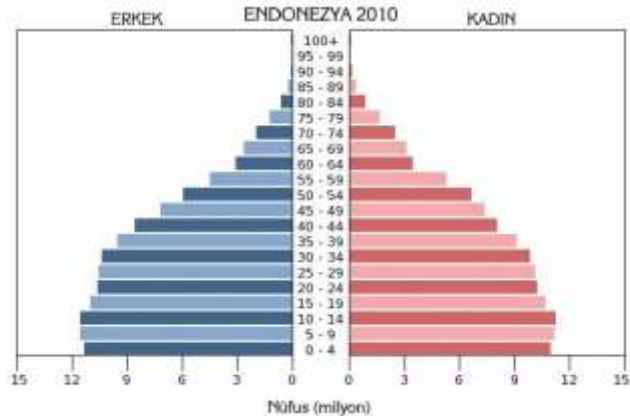


Etkinlik

Piramitlerden ve ön bilgilerinizden yararlanarak aşağıdaki soruları cevaplandırınız.



1. Piramitler arasındaki farklılıklar nelerdir?

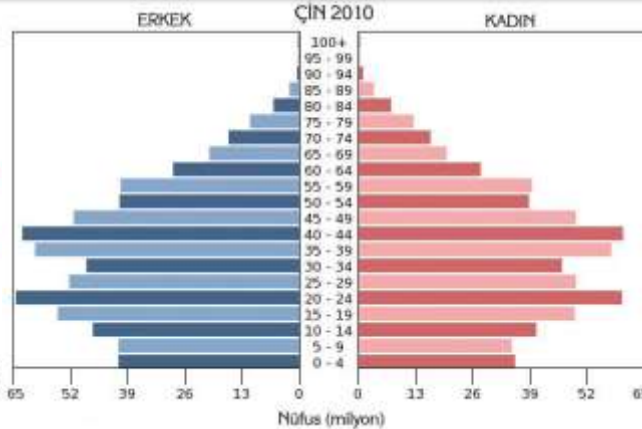
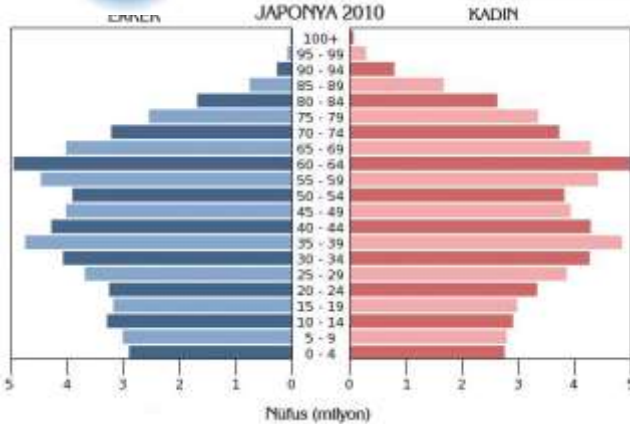


2. Piramitlerden hangisi nüfusu hızla azalan ülkeleri göstermektedir?

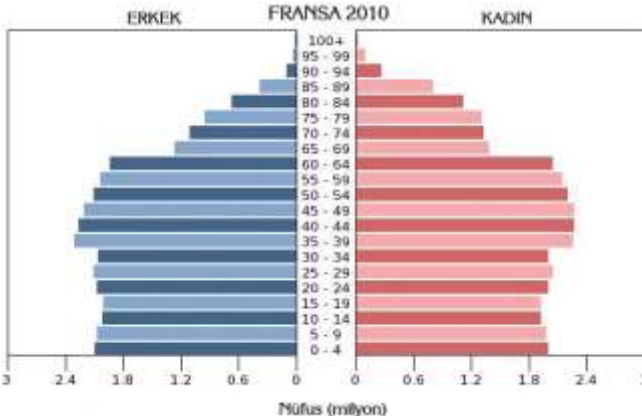
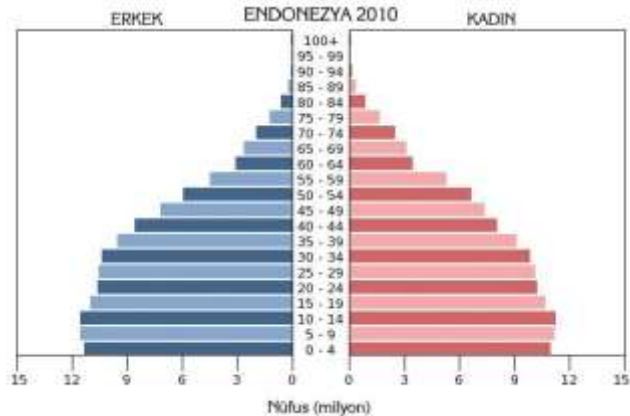


Etkinlik

Piramitlerden ve ön bilgilerinizden yararlanarak aşağıdaki soruları cevaplandırınız.

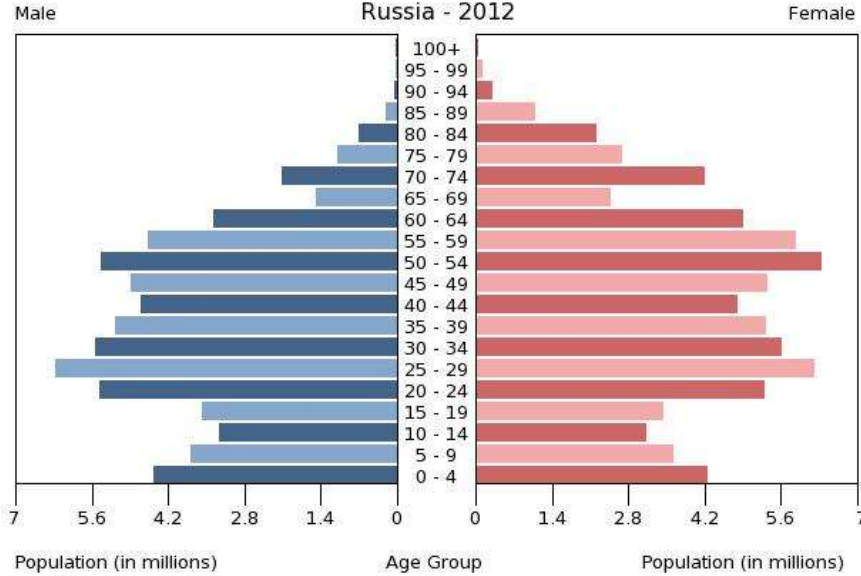


3. Ülkelerden hangisinin nüfusu hızla artmaktadır?



4. Japonya ve Endonezya gibi ülkelerin nüfus planlaması yoluyla hangi sorunlarını çözebileceklerdir

Rusya'da Nüfus Politikaları



Sıra	Ülke	Nüfus	Yıl	Dünya Nüfusuna Oranı
8	Rusya	143.056.383	2012	%2.05

Rusya'da Nüfus Politikaları

Rusya'nın nüfus politikalarını iki döneme ayırabiliriz.

Sovyetler Birliđi
süreci (1917-1991)



Sovyetler
Birliđi'nin
dađılmasından
sonraki dönem

Birinci
Dönem

Rusya'da Nüfus Politikaları

Kadının istediği zaman, istediği kadar çocuk yapacaktır

Eğitim giderleri ve temel ihtiyaçların devlet tarafından karşılanması nüfus artış hızını artırmıştır



Birinci
Dönem

Rusya'da Nüfus Politikaları

Ayrıca tarımda iş gücüne olan ihtiyaç nüfusu artıran etmenlerdendir.

2000 yılına kadar Rusya'nın nüfusu artarken bu süreçten sonra ülkenin nüfusu duraklama ve azalma sürecine girmiştir.



Rusya'da Nüfus Politikaları

Dünya'nın en kalabalık (142,9 milyon, 2010) ülkeleri arasında yer alan Rusya'da nüfusun azalmaya başlaması önemli bir sorun olarak kabul edilmiştir.

Bunun için nüfus artış hızının artırılmasına yönelik politikalar benimsenmiştir.



Rusya'da Nüfus Politikaları

Bu politikalardan biri ülkeye göçleri kolaylaştırmaktadır.

Göçlerden dolayı ülke nüfusu artmıştır.(Daha çok Komşulardan)

Diğer hedefler ölüm oranlarının azaltılması ve doğum oranının yükseltilmesine yöneliktir.



Rusya'da Nüfus Politikaları

Rusya'da doğum oranının artması için ikinci çocuktan sonrası için aileye ekonomik yardım politikası geliştirilmiştir.

Daha fazla çocuk yapılmasına ihtiyaç duyulduğuna dair afişler asılmaktadır.

Bu çalışmalar sonucunda ülkede ikinci ve üçüncü çocuk sahibi olma oranı %30'dan %42'ye yükselmiştir.



Rusya'da Nüfus Politikaları

Ülkede ölüm oranının fazla olmasının nedenlerinden biri alkol ve sigara tüketimidir.

Bunu önlemek için bazı bölgelerde alkol satışı yasaklanmış, bu uygulama sonucunda ölüm oranının azaldığı gözlemlenmiştir.



Rusya'da gece bazı bölgelerde alkol satışı yasaklanıyor

Alkolü “ulusal felaket” ilan eden Rusya, toplumun alkol alımını azaltmak için her geçen gün yeni tedbirler alıyor.

Putin'in 3 Çocuk Siyaseti Sonuç Verdi



Sovyetler Birliđi'nin yıkılmasından bu yana her yıl 500-600 bin kiři azalan Rusya, 2012'nin ilk beř ayında ilk kez artış sađladı. Rusya Federal İstatistik Servisi'nin rakamlarına göre 60 bin 600 kiři artan Rusya nüfusu 143,1 milyonu buldu.

<http://www.sonhaberoku.com/dunya/putinin-3-cocuk-talebi-tuttu-ilk-kez-rusya-5-ayda-60-bin-kisi-artti-h4645.html>



Etkinlik

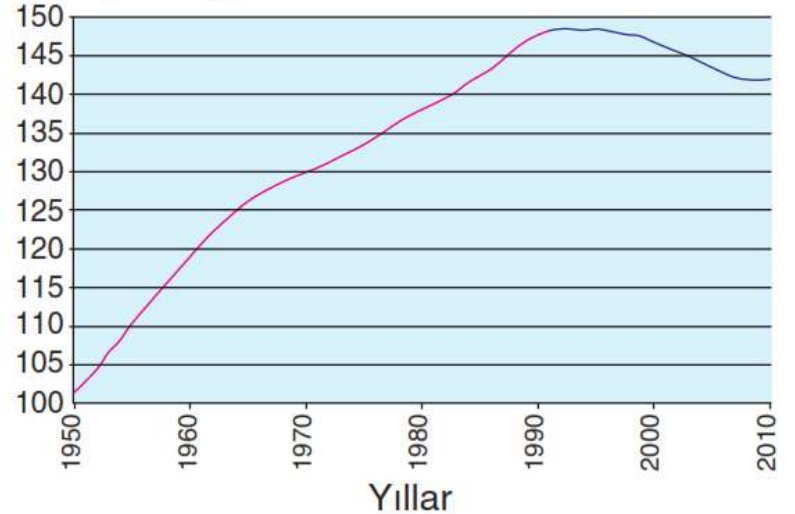


Aşağıdaki soruları, Rusya'nın bazı yıllara göre nüfus artışını gösteren yandaki grafiğe göre yanıtlayınız.

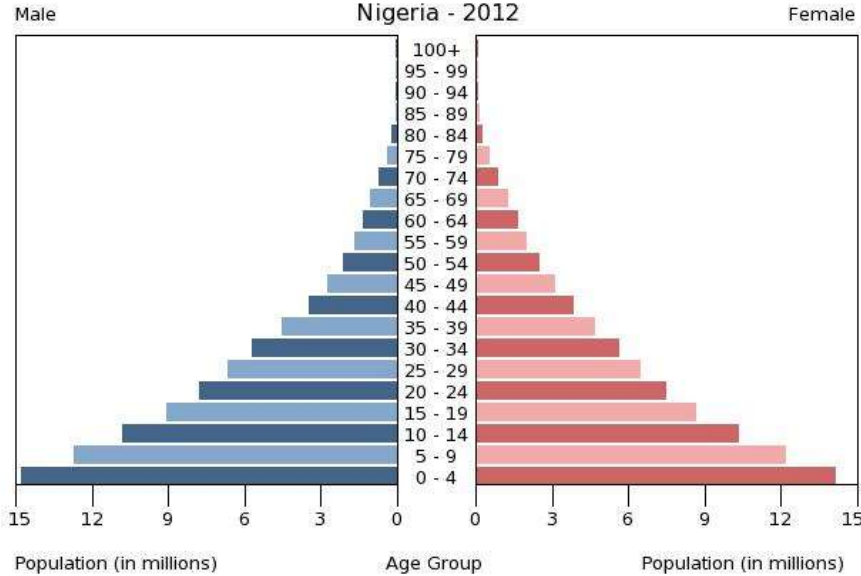
1. Rusya'nın nüfusu hangi yıla kadar artmış, hangi yıldan sonra azalmıştır? Bunun nedeni nedir?

2. Nüfusun azalmaya devam etmesi ne tür sorunlara neden olabilir? Bunun için ne tür önlemler alınması gerekir?

Rusya'nın Nüfusu
Nüfus (milyon kişi)



Nijerya'da Nüfus Politikaları



Sıra	Ülke	Nüfus	Yıl	Dünya Nüfusuna Oranı
7	Nijerya	162.470.737	2011	%2.33

Nijerya'da Nüfus Politikaları

Nijerya, Afrika'nın nüfusu en çok olan ülkesidir.

Ülkenin nüfus artış hızı yüksektir

Aynı zamanda kalkınma hızı en düşük ülkeler arasındadır.



Nijerya'da Nüfus Politikaları

Nijerya 1960 yılına kadar İngiltere'nin sömürgesiydi.

Bu dönemde ülkede herhangi bir nüfus politikası belirlenmemiştir.

Bu süreçten sonra ülke nüfus politikaları iki döneme ayrılır.



Nijerya'da Nüfus Politikaları

Nijerya'nın bağımsızlığını kazandığı 1960'tan 1990 yılına kadar geçen sürede nüfus askerî ve ekonomik güç olarak kabul edilmiştir.



Birinci
Dönem

Nijerya'da Nüfus Politikaları

Bu dönemde nüfus artış hızı çok yüksektir.

Bunun en önemli nedeni temel geçim kaynağının tarım olmasıdır



Nijerya'da Nüfus Politikaları

Nijerya'da 1990 yılından sonra nüfus artış hızını azaltmaya yönelik politikalar benimsenmiştir.

Bu amaçla evlenme yaşı kadınlarda 18, erkeklerde 24 olarak belirlenmiştir.



İkinci
Dönem

Nijerya'da Nüfus Politikaları

Ülkenin nüfus artış hızını düşürmek için Nijerya'nın başlatmış olduğu bu çalışma, ABD tarafından ekonomik olarak desteklenmektedir.



İkinci
Dönem

Nijerya'da Nüfus Politikaları

ABD den gelen ekonomik kaynak,

anne-çocuk sağlığı programları,
halk eğitimi ve

kitle iletişim araçları için
harcanmaktadır.



İkinci
Dönem

Nijerya'da Nüfus Politikaları

Ülkede izlenen bu nüfus politikası sonucunda nüfus artış hızı 2007'den itibaren azalmaya başlamıştır.


2007'de % 40 olan artış hızı

2010'da % 36'ya düşmüştür.





Etkinlik



Nijerya'daki nüfus artışını göz önünde bulundurarak

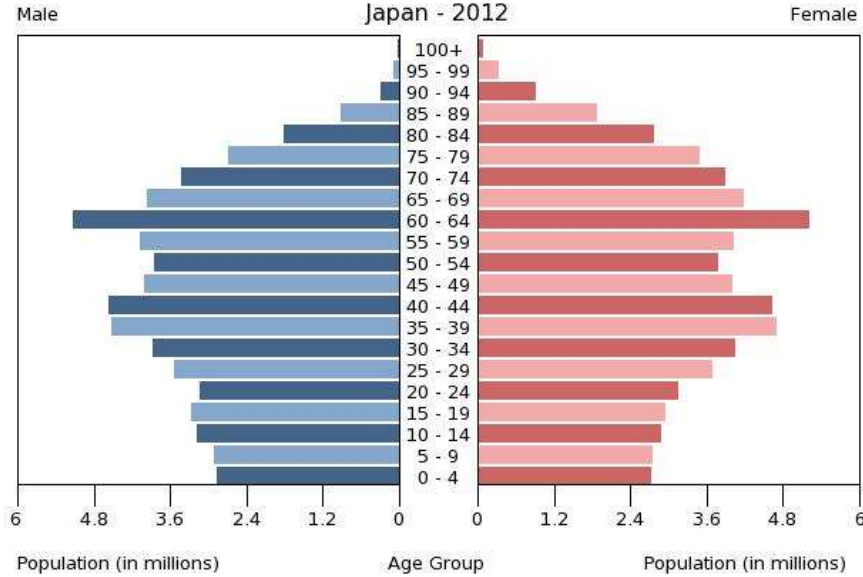
bu ülkede gelecekte ne gibi sorunların yaşanabileceğini ve

bunun için ne gibi önlemlerin alınması gerektiğini belirtiniz.

Nijerya'nın Nüfusu
Nüfus (milyon kişi)



Japonya'da Nüfus Politikaları



Sıra	Ülke	Nüfus	Yıl	Dünya Nüfusuna Oranı
10	Japonya	127.960.000	2011	%1.83

Japonya'da Nüfus Politikaları

Japonya, 19. yüzyılda ve 20. yüzyılın başlarında aileleri çok çocuk yapmaları konusunda teşvik etmiş, **aile planlamasına karşı çıkmıştır.**



Japonya'da Nüfus Politikaları



Bu dönemdeki nüfusun artırılmasının nedenleri, nüfusun askerî ve üretici güç olarak görülmesidir.

Japonya'da Nüfus Politikaları

II. Dünya Savaşı'ndan sonra evlerine dönen askerler,

Sömürgeleri terk eden mülteciler ve

Tıp alanındaki ilerlemeler,

Doğal nüfus artış hızının çok yükseltmiştir



Japonya'da Nüfus Politikaları

Bu dönemde % 13 olan nüfus artış hızı % 20'ye yükselmiştir.

Bu durum Japonya'da nüfusun ikiye katlanma süresinin 35 yıla düşmesine neden olmuştur.



Japonya'da Nüfus Politikaları

Nüfus artış hızının yüksek olması,

Kalkınma hızını azaltacağı ve

Askerî alanda aşırı nüfusun önemini kalmaması,

Ülkeyi yeni bir nüfus politikasına zorlamıştır.



Japonya'da Nüfus Politikaları

1948'de Japonya yeni bir nüfus politikası belirlemiştir.

“İrki Koruma Yasası” adıyla alınan önlemler sayesinde 1947'de % 34 olan doğum oranı, on yıl içinde % 18'e düşmüştür.

Bu değer, 2000'li yıllarda durma noktasına gelmiştir.



Japonya'da Nüfus Politikaları

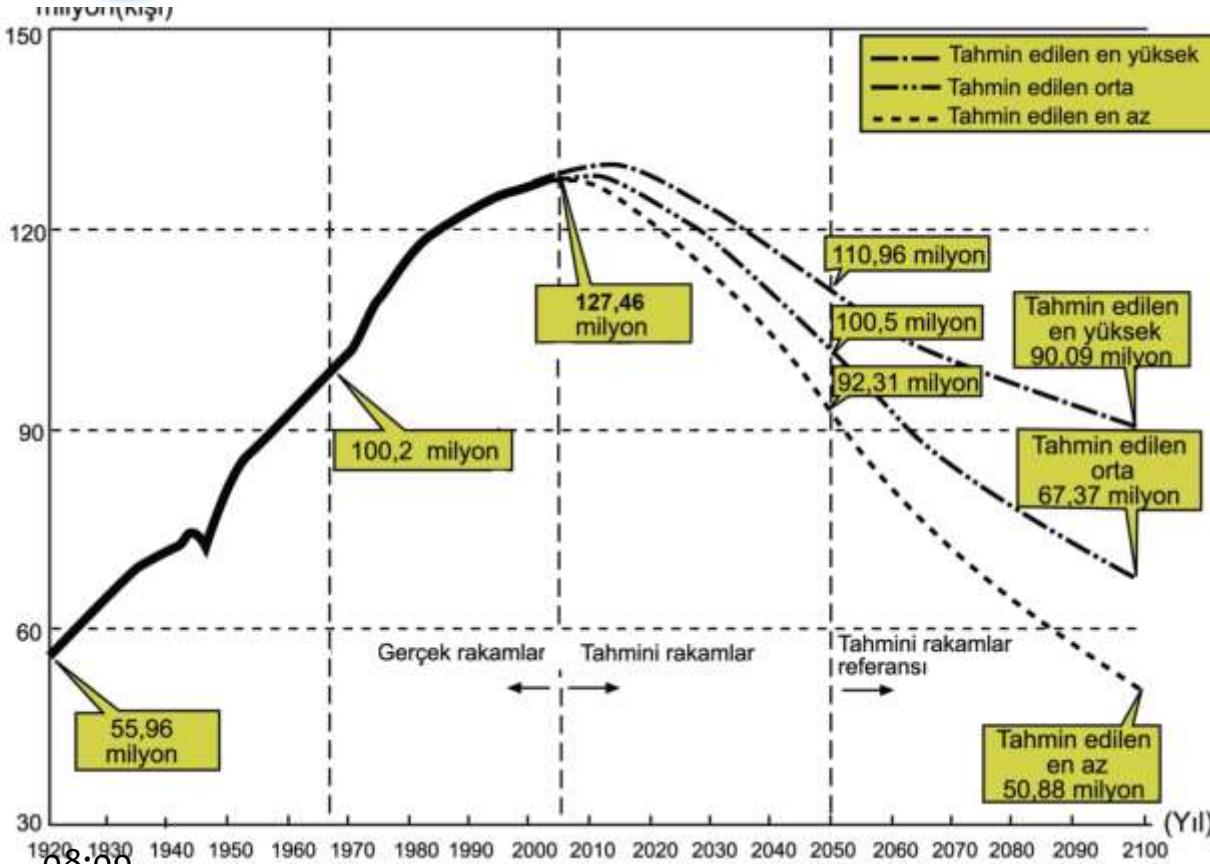
1991 yılından sonra yeniden nüfus artış hızının artırılması ve çok çocuklu ailelerin teşvik edilmesi için yeni politikalar benimsenmiştir.





Etkinlik

Grafikte Japonya'nın 2005 yılına kadar belirlenmiş ve 2100 yılına kadar tahmini nüfusu verilmiştir.

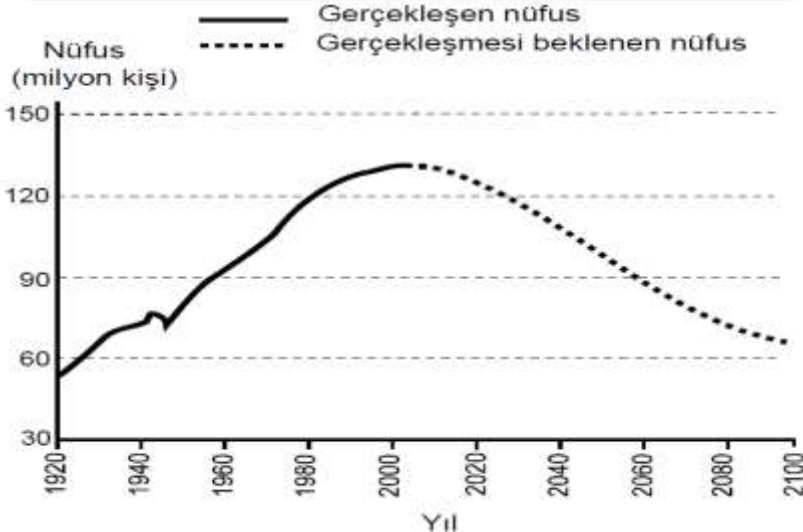


1. 1970 yılında Japonya'nın nüfusu ne kadardır?

2. Hangi yıldan itibaren nüfus artış hızında düşüş eğilimi tahmin edilmektedir? Bu düşüşün sebepleri hakkında neler söyleyebilirsiniz?

3. 1920 yılından günümüze kadar olan zaman aralığındaki nüfusun değişimini yorumlayınız.

Aşağıdaki grafikte, Japonya'nın 1920-2005 yılları arasındaki nüfusu ve bugünkü nüfus politikası sürdürüldüğünde 2100 yılına kadar gerçekleşmesi beklenen nüfusu gösterilmiştir.



Bu beklentinin gerçekleşmesi durumunda Japonya'da, 2005 yılından sonra aşağıdakilerin hangisinde artış görüleceği savunulabilir?

A) Yaşlı nüfus oranında

B) Aktif nüfus miktarında

C) Nüfus yoğunluğunda

D) Doğum oranında

E) Erkek nüfus oranında



Etkinlik

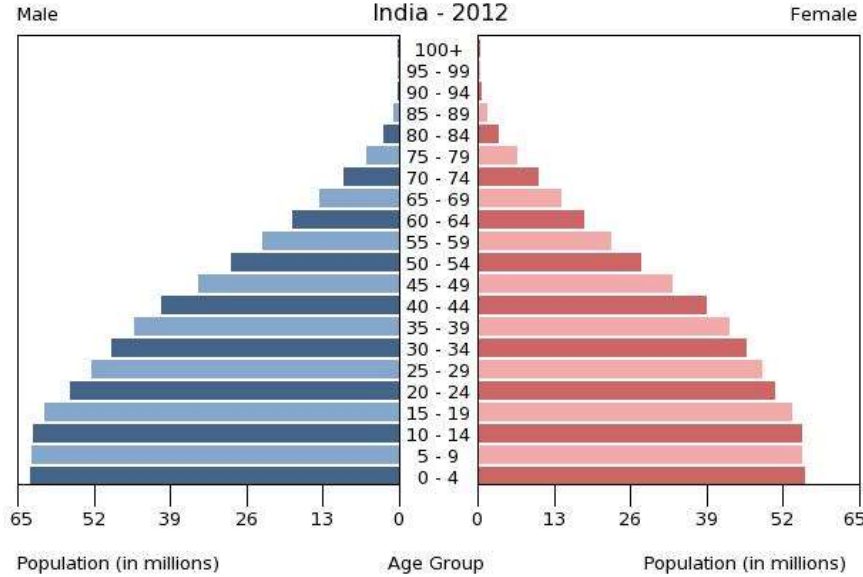


Aşağıdaki tabloda Japonya'nın yıllara göre yaş grubu dağılımı verilmiştir.

Buradan hareketle Japonya'nın ileride ne gibi sorunlarla karşılaşabileceğini nedenleriyle birlikte söyleyiniz.

Yıllar	Yaş Grupları			Yıllık ortalama artış oranı (%)	Toplam nüfus (milyon)
	0-14 (milyon)	15-64 (milyon)	65 +		
1960	30,2	64,2	5,7	0,92	94,3
1985	21,15	68,2	10,3	0,67	121,1
2010	13,2	63,7	23,1	0,05	128,1

Hindistan'da Nüfus Politikaları



Sıra	Ülke	Nüfus	Yıl	Dünya Nüfusuna Oranı
2	Hindistan	1.232.516.000	2012	%17.4

Hindistan'da Nüfus Politikaları

Bir milyardan üzerinde nüfusa sahip olan Hindistan, nüfus artış hızı bu şekilde devam ettiği durumda Çin'i geçerek birinci sıraya geçecektir.



Hindistan'da Nüfus Politikaları

Etnik bir bütünlük olmaması,

Dinî bakımdan da birçok topluluk bulunması,

Ülkede ortak bir nüfus politikası uygulanmasını **zorlaştırmaktadır.**



Hindistan'da Nüfus Politikaları

İngiltere'nin egemenliğinde bulunduğu dönemde doğum ve ölüm oranları yüksek olduğundan nüfusta büyük bir artış görülmemekteydi.



Bağımsızlığını kazandığı 1947'den sonra nüfus artış hızı yükseldi

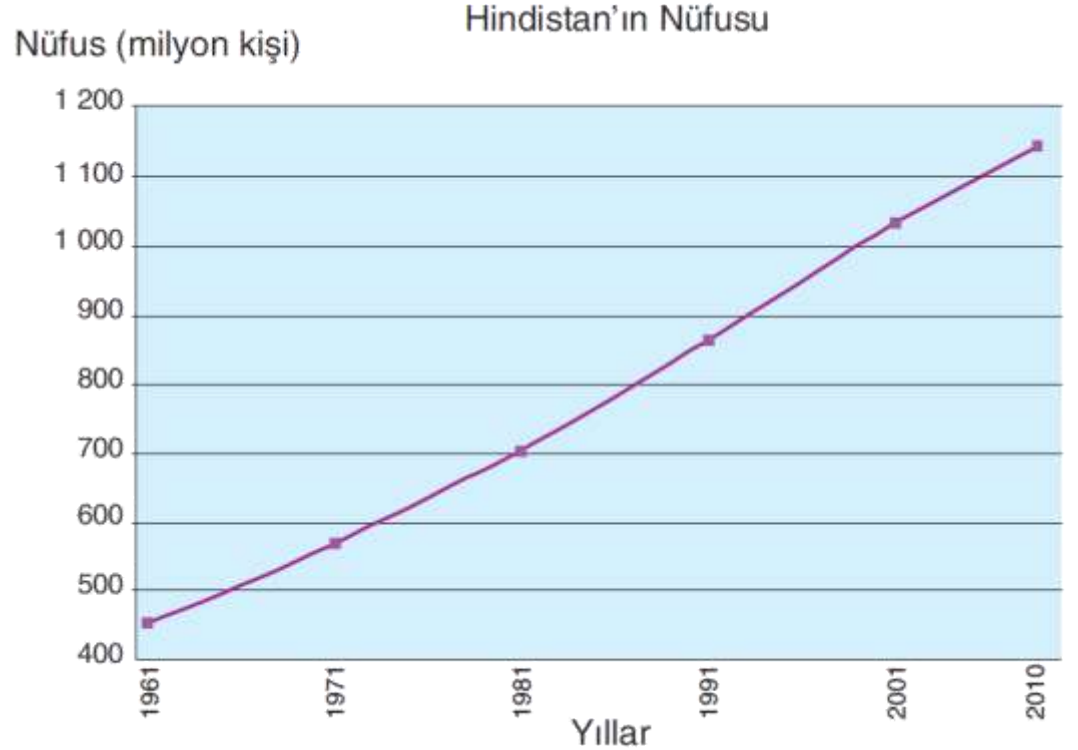
**Bunun temel nedeni
yüksek doğum oranının
devam etmesi ve**

**Tıptaki ilerlemelere
bağlı olarak ölüm
oranlarının düşmesidir.**



Hindistan'da Nüfus Politikaları

1970'ten sonra
ülkede nüfus artış
hızı azalmaya
başladı fakat nüfus
artış hızı yine
yüksekti.




Hindistan'da Nüfus Politikaları

Ayrıca nüfus artış hızı düşse de nüfusu çok olduğu için bu durum ülke nüfusunun yine çok yüksek miktarda artmasına neden olmaktadır.



Hindistan'da Nüfus Politikaları

Bu nedenle 1960'tan sonra nüfus artış hızının azaltılması için teşvik politikaları benimsendi.




Hindistan'da Nüfus Politikaları

Önceleri üçten fazla çocuk sahibi olanların kısırlaştırılması uygulamasına başlandı.

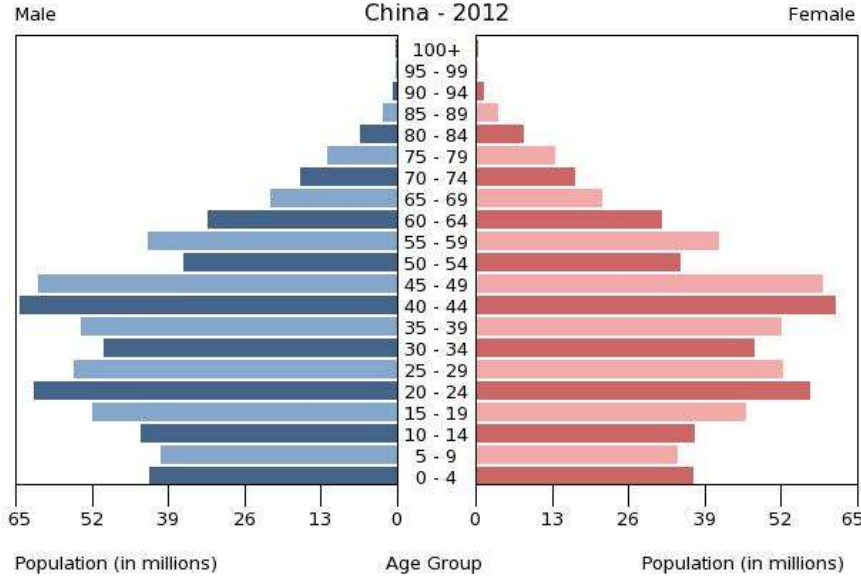


Hindistan'da Nüfus Politikaları

Bu uygulamanın toplumsal sorunlara neden olması nedeniyle, eğitim çalışmalarıyla doğumların azaltılması yoluna gidilmiştir.



Çin'de Nüfus Politikaları



Sıra	Ülke	Nüfus	Yıl	Dünya Nüfusuna Oranı
1	Çin	1.353.780.000	2012	%19,39

Çin'de Nüfus Politikaları



Yeryüzünde en çok nüfusa sahip Çin, uzun süre **güçlü olmanın tek yolunu sayısal olarak çok olmakta görmüş, bu da, ülke nüfusunu büyük ölçüde artırmıştır.**

Çin'de Nüfus Politikaları

1953'te ülke nüfusu 583 milyon olarak belirlendi.

Bu durum, ülkede nüfus planlamasını gündeme getirdi.



Çin'de Nüfus Politikaları

1960'larda Çin, nüfus artış hızını azaltmak için bazı önlemler almıştı.

Evlenme yaşının yükseltilmesi ve

Doğum kontrolüyle ilgili araç ve gereçlerin dağıtılması

Bu önlemlerdendir.



Çin'de Nüfus Politikaları

Çin'de nüfus politikalarıyla ilgili en önemli uygulama “tek çocuk” uygulamasıdır.



Çin'de Nüfus Politikaları

Birden fazla çocuğa sahip olan eşlerden birinin kısırlaştırılması ve parasal cezalarla bu politika büyük ölçüde etkili oldu.



Çin'de Nüfus Politikaları

1970'te yüzde 2.4 olan nüfus artış hızı, 1985'te yüzde 1.1'e düştü.



Çin'de Nüfus Politikaları

**Tek çocuk politikası
özellikle kırsal kesimde
sorunlar ortaya çıkardı.**



Çin'de Nüfus Politikaları

Tarımla uğraşan kırsal kesimdekiler, gerek iş gücü gerek soylarının devam etmesi için erkek çocuğa önem vermekteydi.



Çin'de Nüfus Politikaları

Bu nedenle tek çocuk uygulamasına karşı çıkıldı ve toplumsal sorunlar yaşandı.



Çin'de Nüfus Politikaları

Bunun sonucunda devlet, ilk çocuğun kız olması durumunda dört yıl sonra ikinci bir çocuğun yapılmasına izin verdi.



Çin'de Nüfus Politikaları

Sonraki süreçte ise zorlamanın insan haklarına aykırı olması nedeniyle tek çocuk politikasının uygulanmasında esnek davranıldı.

Çin'in tek çocuk politikası, erkek sayısının artmasına neden olmuştur.





Nüfus Politikaları Nelere Neden Olur?

Nüfus Politikaları Nelere Neden Olur?


Nüfus politikalarının ortaya çıkmasının en önemli nedeni ülkelerin nüfuslarıyla ekonomileri arasındaki uyumsuzluktur.




Nüfus Ekonomi İlişkisi

“Nüfus kontrolü bizim tüm sorunlarımızı çözemez ama nüfus kontrolü yapılmadan öteki sorunlarımız da çözülemez”.

Nehru 1959 (Dönemin Hindistan Başbakanı)



Nüfus Politikasından Önce



Nüfus Politikasından Sonra

Nüfus Politikaları Nelere Neden Olur?

Az gelişmiş ve geri kalmış ülkelerde nüfus artış hızı yüksektir.

Bu durum kalkınma hızını yavaşlatmakta ve

kişi başına düşen millî gelirin azalmasına neden olmaktadır.



Nüfus Politikaları Nelere Neden Olur?

Bu nedenle az gelişmiş ve geri kalmış ülkelerde nüfus artış hızını azaltmaya yönelik politikalar, ülke açısından olumlu sonuçlar doğurmaktadır.



Nüfus Politikaları Nelere Neden Olur?

Gelişmiş ülkelerde ise doğum oranı çok düşüktür.

Bazı ülkelerde ise nüfus artış hızı negatif değerdedir.

Bu durum nüfusun azalmasına ve yaşlı nüfus oranının artmasına neden olmaktadır.



Nüfus Politikaları Nelere Neden Olur?

Bu ülkeler nüfus artış hızını artırmaya yönelik politikalar uygulamaktadırlar.

Bu ülkeler açısından genç nüfus oranının artması olumludur.



Nüfus Politikaları Nelere Neden Olur?

Nüfus artış hızına müdahaleyle ilgili politikaların olumsuz sonuçlarından biri, kadın ve erkek nüfusu arasında dengesizliğin ortaya çıkmasıdır.





Etkinlik

Nüfus Politikaları Sonucu Nüfus Artış Hızının Düşmesinin



Olumlu Sonuçları

Anne ve bebek sağlık düzeyi yükselir.

Kişi başına düşen milli gelir artar.

Kişisel ihtiyaçlar kolayca karşılanır

Ülke kaynakları daha yavaş tükenir

Üretim fazlası olur.

Olumsuz Sonuçları

İşgücü ihtiyacı artar.

Genç nüfus azalır.

Yaşlı nüfus artar.

Emekli nüfus artar.

Diğer ülkelerden işçi temin edilir.



Etkinlik

Nüfus Politikaları Sonucu Nüfus Artış Hızının Yükselmesinin



Olumlu Sonuçları

Genç nüfusu artar.

Ucuz işgücü temini kolay olur.

Yatırımlar kolaylaşır ve artar.

Mal ve hizmete talep artar.

Hizmet ve diğer sektörler gelişir

Olumsuz Sonuçları

Tasarruflar azalır

Anne ve bebek sağlık düzeyi düşer.

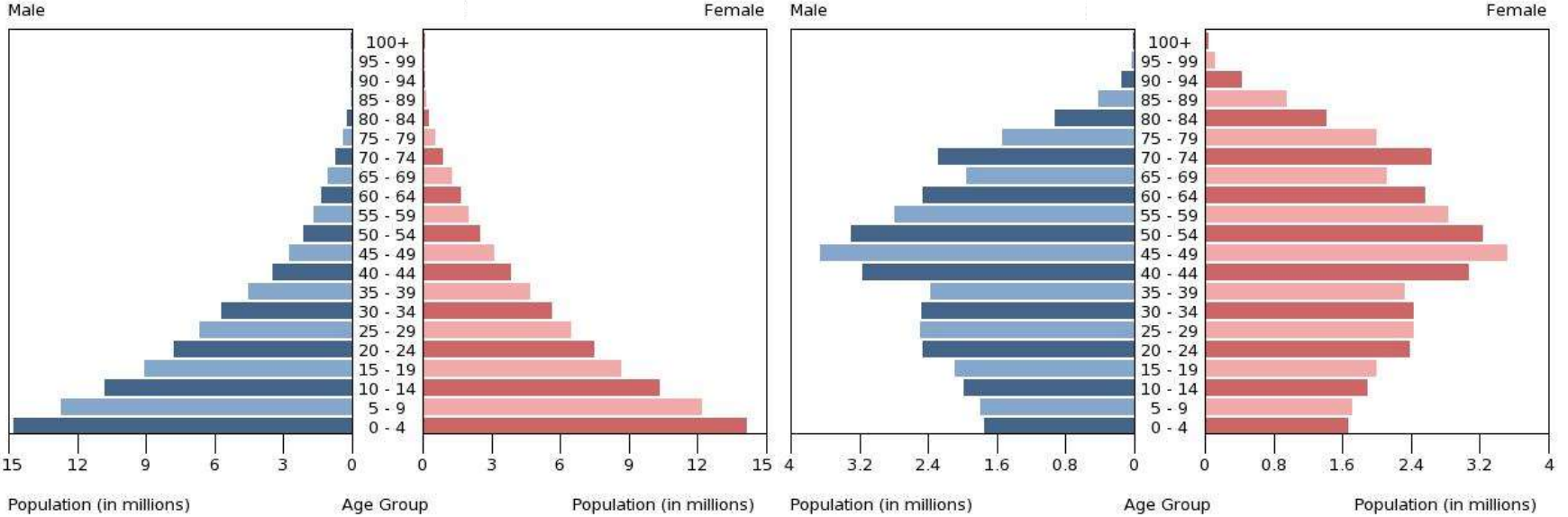
Demografik yatırımlar artar.

Kişi başına düşen milli gelir azalır.

Kişisel ihtiyaçlar kolayca karşılanamaz.



Etkinlik

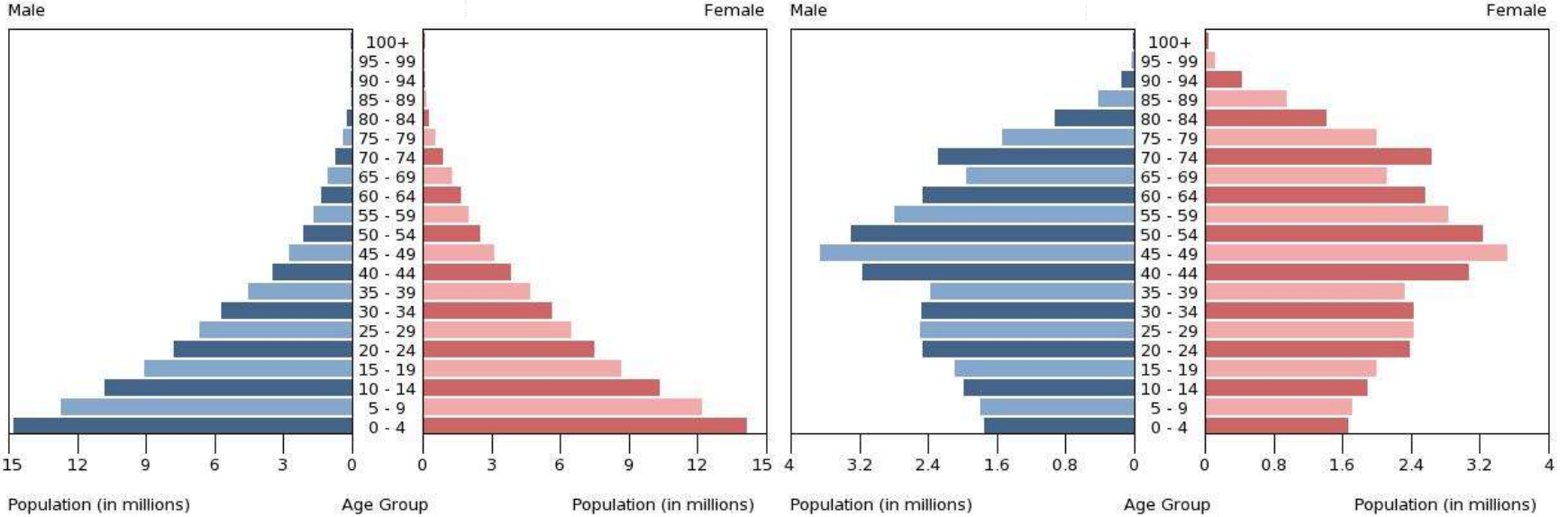


1. I. ve II. piramitlerde gösterilen ülkelerden hangisinde nüfus doğal artış hızı fazladır? Neden?

2. Piramitlerde belirtilen ülkelerden hangisinde bağımlı nüfus daha fazladır? Neden?



Etkinlik



3. Bu ülkelerden hangisinde nüfus artış hızının azaltılması için önlemler alınmalıdır? Neden?

4. Bu ülkelerden hangisinde yakın bir gelecekte nüfusun artmaması önemli bir sorun olacaktır?

Nüfus politikaları, nüfusun niteliğini ve niceliğini etkileyen bilinçli uygulamalardır. Dünyada,

I. nüfus artış hızını azaltma,

II. nüfus artış hızını artırma,

III. nüfusun niteliğini iyileştirme

amacıyla uygulanan üç çeşit nüfus politikası vardır.

Aşağıdakilerin hangisinde bu nüfus politikalarını uygulayan ülkeler doğru olarak verilmiştir?

I II III

A) İngiltere Türkiye Fransa

B) Çin İngiltere Türkiye

C) Fransa Çin İngiltere

D) Türkiye Hindistan Japonya

E) Japonya Fransa Hindistan

Başlıca Kaynaklar

BARANAYDIN, Mehmet, Coğrafya 11, Lider Yayıncılık, Ankara, 2012

KOMİSYON, Coğrafya 11, MEB Yayınevi, İstanbul 2012

ABAY, Cumhur, Coğrafya 11, Esen Yayınları, Ankara 2012

<http://populationpyramid.net/>

<http://www.census.gov/population/international/data/idb/region.php>