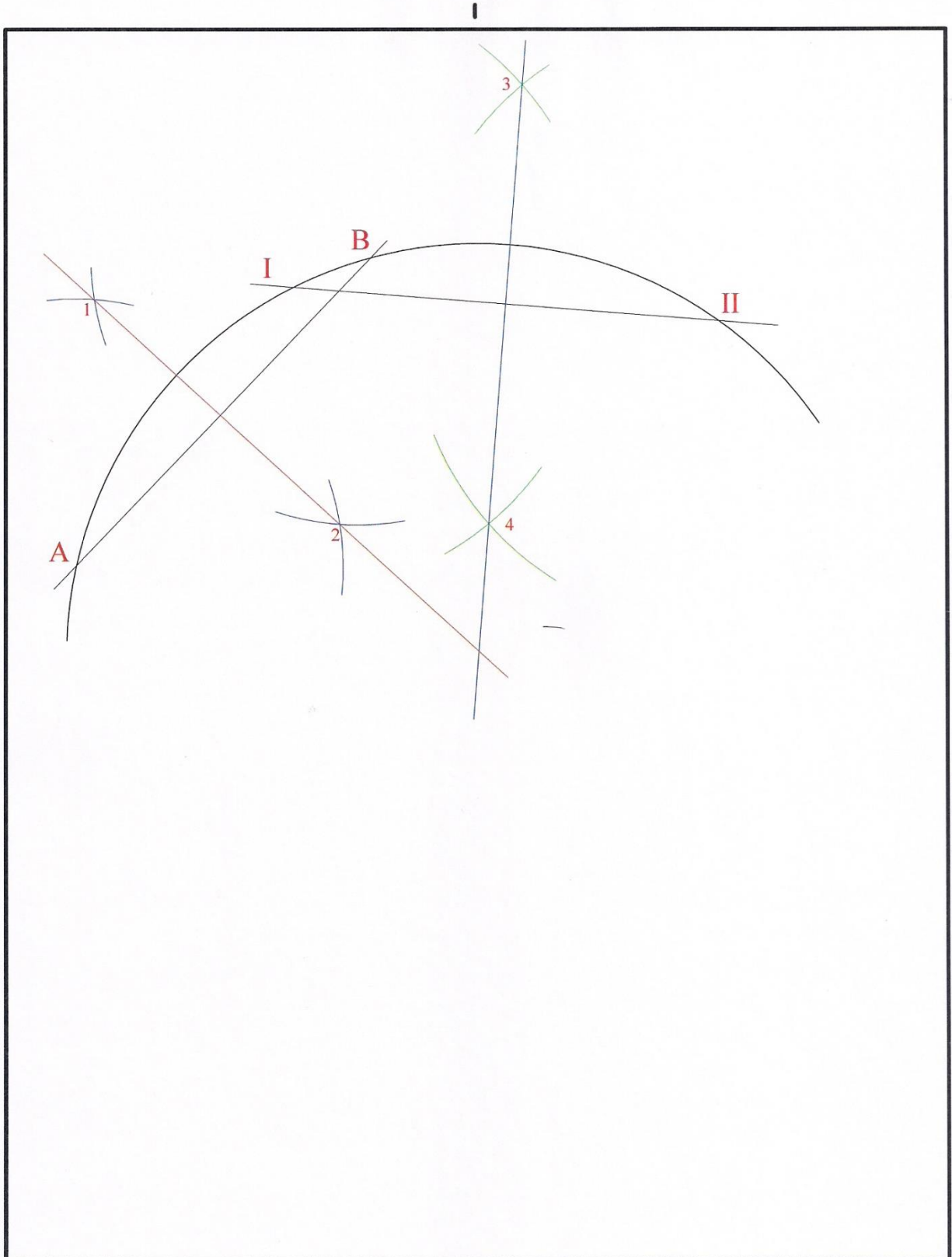
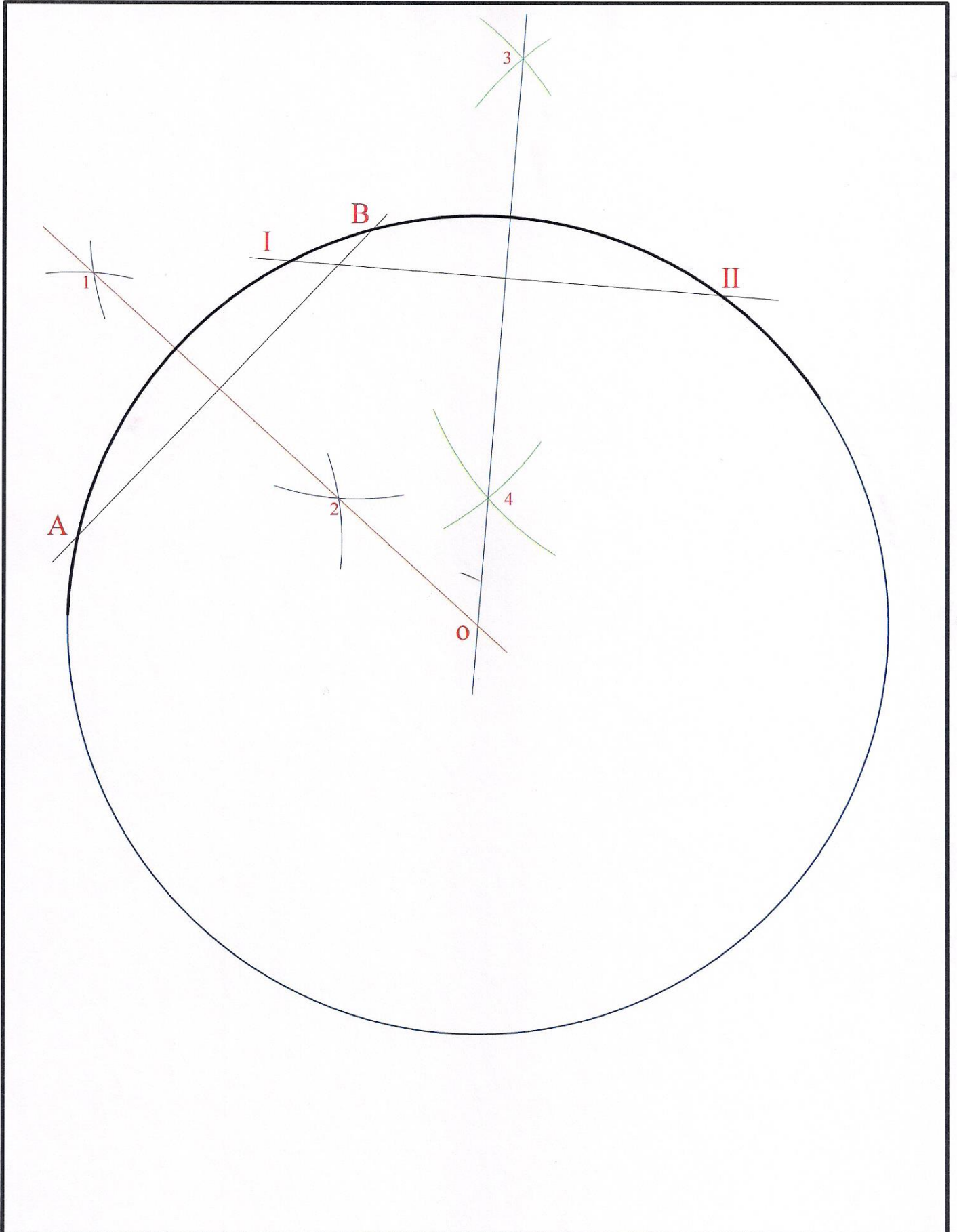


Yay Tamamlama:

Çap bilinmeyen yayın üzerinde birbirini kesen AB ve I-II kirişleri çizilir. AB kirişinin yayı kesen AB noktaları dikkate alınarak orta noktasından dik çıkarılır. Aynı işlem I-II kirişi için de tekrarlanır. Kirişlerin orta noktalarından geçen diklerin kesiştiği nokta O yayın merkez noktası bulunur. Pergel O noktasına koyularak yay kenarı kadar açılır ve yay tamamlanır.



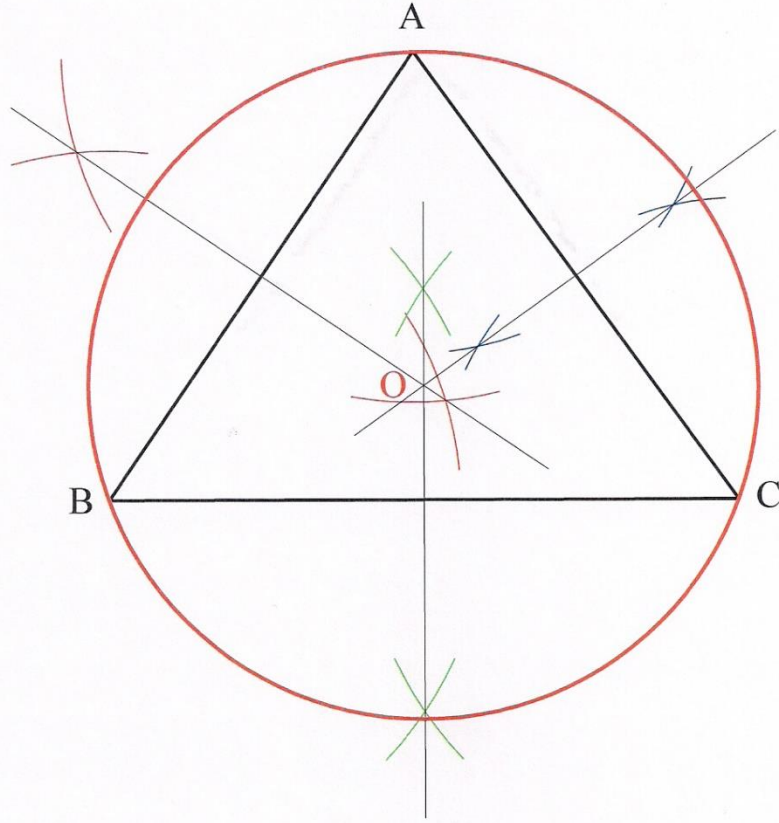
Adı Soyadı	Tarih	Çizim No:	DEĞERLENDİRME (100 üzerinden)
Numarası			
Bölümü			



Adı Soyadı		Tarih	Çizim No:	DEĞERLENDİRME (100 üzerinden)
Numarası				
Bölümü				

Bir Üçgenin Köşelerine Teğet Çember Çizmek:

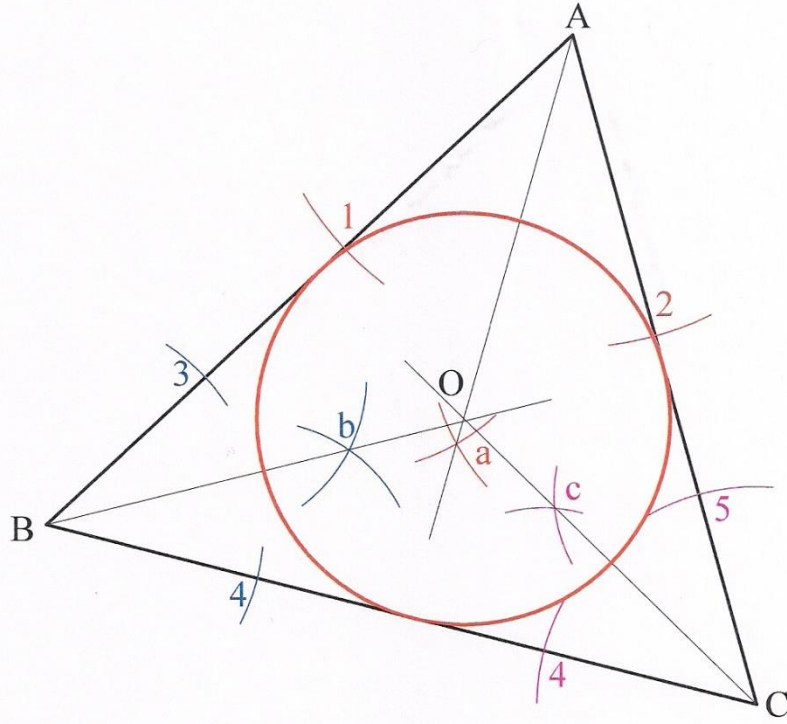
Herhangi bir ABC üçgeni çizilir. Üçgenin sıra ile AB, BC ve CB kenarlarının orta noktalarından dikme çıkılır. Dikmelerin üçgen içinde kesiştikleri O noktası çizilecek çemberin merkezidir. O merkezli ve üçgenin herhangi bir köşesi yarı çaplı çizilecek çember, ABC üçgeninin bütün köşelerine teğet geçecektir.



Adı Soyadı		Tarih	Çizim No:	DEĞERLENDİRME (100 üzerinden)
Numarası				
Bölümü				

Bir Üçgenin Kenarlarına Teğet Çember Çizmek:

Herhangi bir ABC üçgeni çizilir. Üçgenin sıra ile A, B ve C açılarının açı ortayları çizilir. Çizilen açı ortayların kesiştiği nokta O çizilecek çemberin merkezidir. O merkezli ve üçgenin herhangi bir kenarı yarı çaplı çizilecek çember, ABC üçgeninin bütün kenarlarına teğet geçecektir.

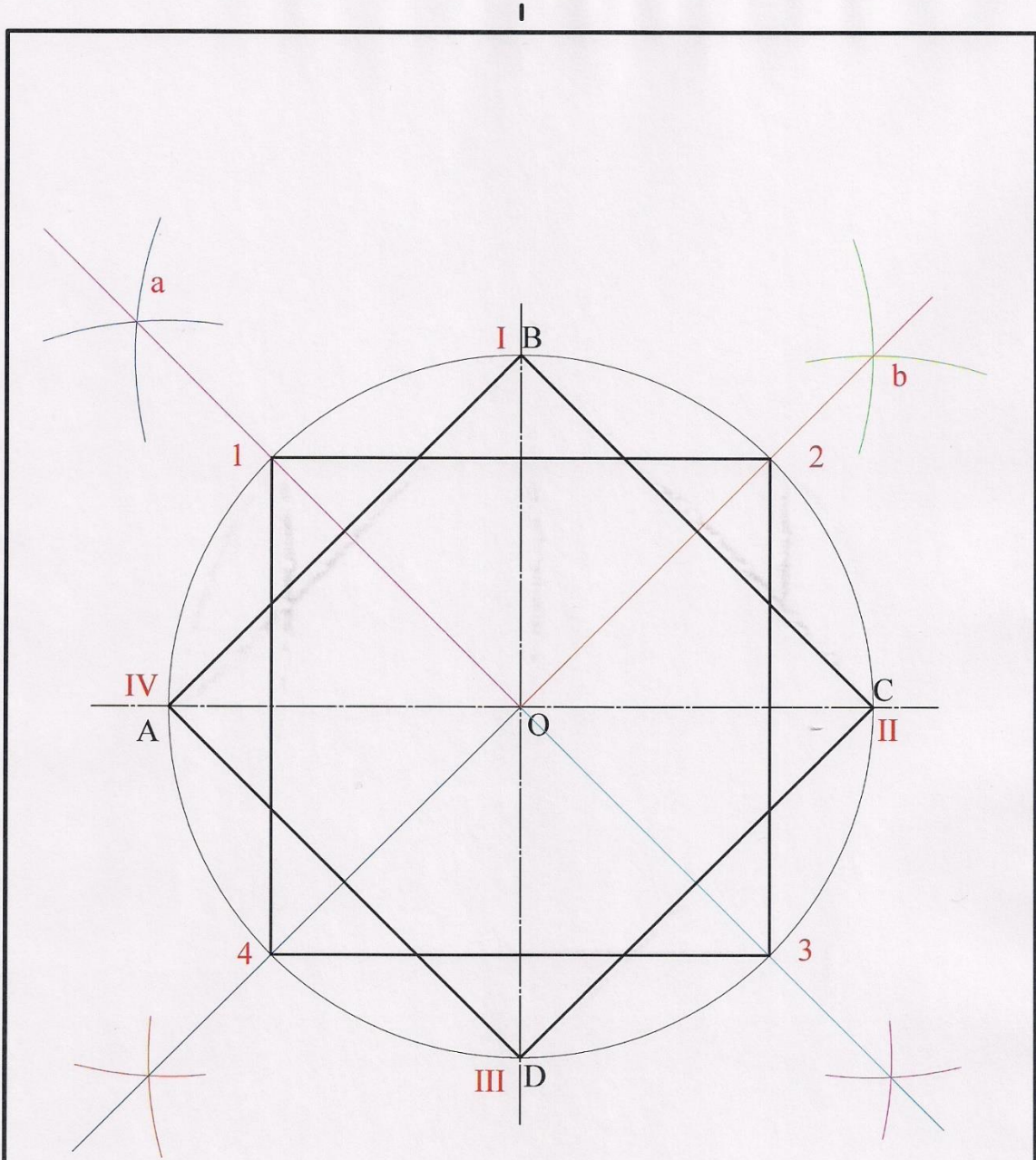


Adı Soyadı		Tarih	Çizim No:	DEĞERLENDİRME (100 üzerinden)
Numarası				
Bölümü				

Çapı Bilinen Bir Çember Üzerine Kare Çizmek:

Eksen çizgileri çizilerek merkez (O) bulunur.

1. Pergel OB kadar açılarak O merkezli çember çizilir. AOB açısının açı ortayı çizilerek 1 noktası bulunur. BOC, COD ve AOD açılarının açı ortayları da çizilerek sırası ile 2, 3 ve 4 noktaları bulunur. Sırası ile 1-4 noktaları birer doğru parçası ile birleştirilerek kare çizilir.
2. Çemberin eksen çizgilerini kestiği I, II, III ve IV noktaları sırası ile birer doğru parçası ile birleştirilir ve ikinci kara çizilmiş olur.



Adı Soyadı		Tarih	Çizim No:	DEĞERLENDİRME (100 üzerinden)
Numarası				
Bölümü				