

Yukarıda verilen görünümleri kullanarak cismin perspektif görünüşünü çiziniz.

ANKARA ÜNİVERSİTESİ

ZİRAAT FAKÜLTESİ

Tarım Makinaları Bölümü

ÇİZEN

SINIF

OKUL NO

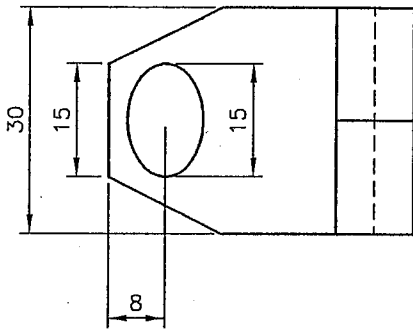
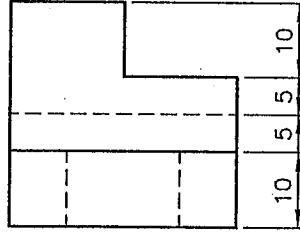
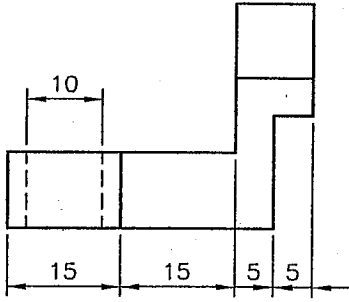
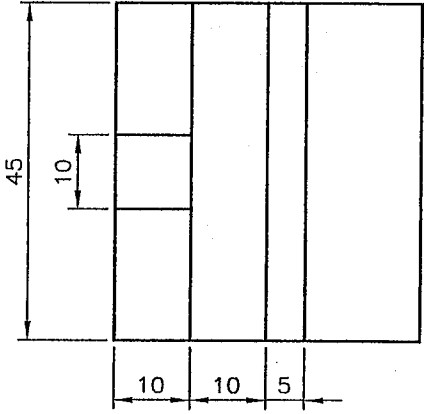
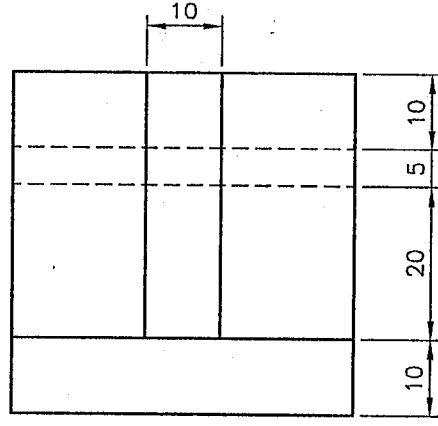
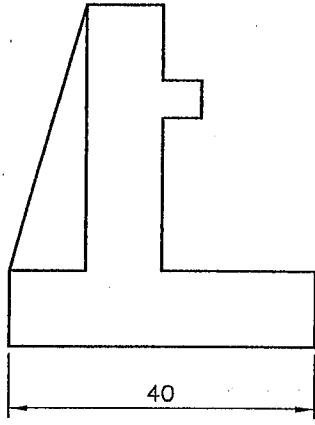
Ölçek

Tarih

Resim no

Konu

64



Yukarıda verilen görünüşleri kullanarak cismin perspektif görünüşünü çiziniz.

ANKARA ÜNİVERSİTESİ
ZİRAAT FAKÜLTESİ
Tarım Makinaları Bölümü

ÇİZEN

SINIF

OKUL NO

Ölçek

Tarih

Resim no

Konu

67