

ANKARA ÜNİVERSİTESİ GAMA MESLEK YÜKSEKOKULU

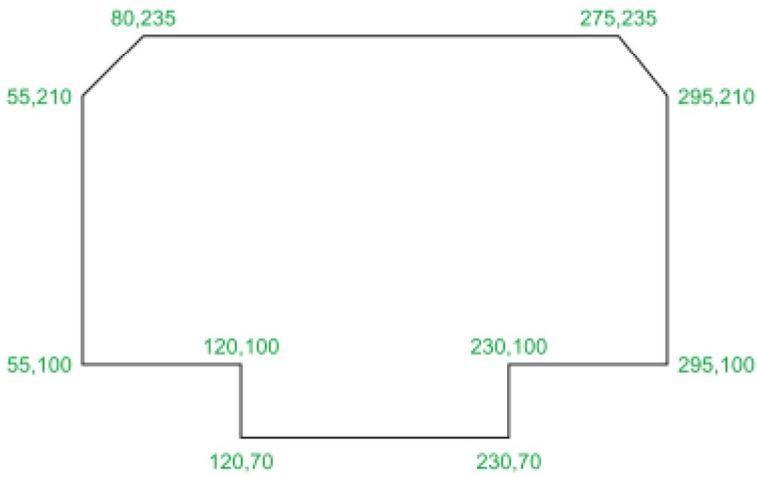
AET107 BİLGİSAYAR DESTEKLİ TASARIM I DERSİ UYGULAMA YAPRAĞI

UYGULAMA NO:1

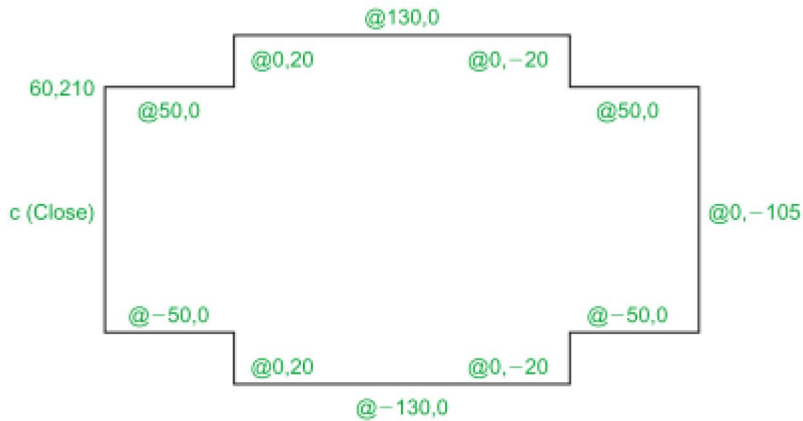
UYG1.1. Verilen şekli MUTLAK KOORDİNATLARA göre çiziniz



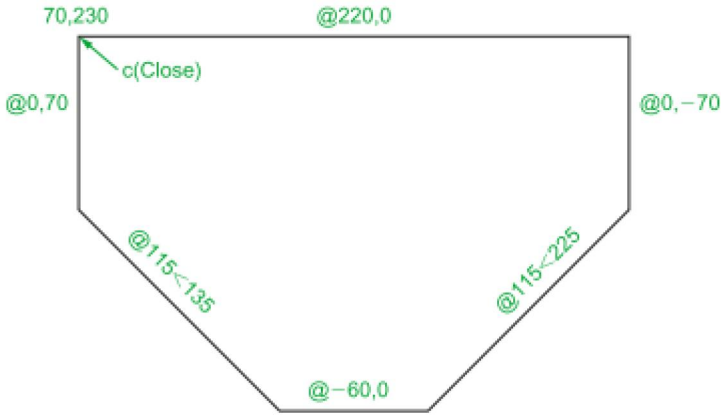
UYG1.2. Verilen şekli MUTLAK KOORDİNATLARA göre çiziniz



UYG1.3. Verilen şekli İZAFİ KOORDİNATLARA göre çiziniz



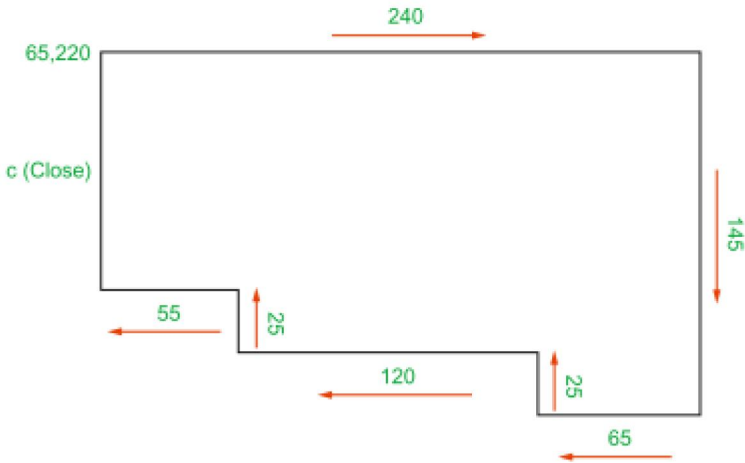
UYG1.4. Verilen şekli İZAFİ KUTUPSAL KOORDİNATLARA göre çiziniz



UYG1.5. Verilen şekli İZAFİ KUTUPSAL KOORDİNATLARA göre çiziniz

30,160 - @85<0 - @35<90 - @25<180 - @25<90 - @35<180 - @15<270 - @25<180 - @45<270

UYG1.5. Verilen şekli KOORDİNATSIZ ÇİZİM YÖNTEMİ ile çiziniz.



UYG1.6.